

Вариант № 517607

1.

Приведите пример натурального числа, большего 12, которое делится на 12 и не делится на 8. *В ответ запишите двузначное число.*

2.

Какие числа надо вписать в окошки, чтобы равенство стало верным? Запишите в ответ цифры без запятых, пробелов и других дополнительных символов.

$$\frac{2}{7} + \frac{3}{7} = \frac{\square}{\square}$$

3.

Запишите какую-нибудь десятичную дробь, расположенную между числами 21,6 и 21,7. *Ответ запишите с двумя знаками после запятой.*

4.

В автобусе 51 место для пассажиров. Две трети этих мест уже заняты. Сколько еще пассажиров может сесть в автобус на оставшиеся места?

5.

Какое число надо вставить в окошко, чтобы равенство стало верным?

$$\square : 31 = 26$$

6.

Принтер печатает 72 страницы за 3 минуты. За какое время этот принтер напечатает 120 страниц?
Запишите решение и ответ.

7.

Какое наименьшее количество роз надо добавить к 186 уже имеющимся розам, чтобы получившееся количество цветов можно было полностью разложить по букетам по 7 роз в каждом?

8.

Площадь одной комнаты 12 м², и она составляет 25% площади всей квартиры. Найдите площадь всей квартиры.

9.

Найдите значение выражения. $480 \cdot 480 : 24 - 4 \cdot (81 - 63) : 2$.
Запишите решение и ответ.

10.

Ваня купил два батона хлеба, полкило колбасы и полтора килограмма картошки. Один батон хлеба стоит 23 рубля, один килограмм колбасы 360 рублей, а один килограмм картошки — 40 рублей. Какую сдачу получит Ваня с 500 рублей?

Запишите решение и ответ.

11.

Чемпионат по хоккею проходил в четыре круга. Алексей следил за количеством заброшенных шайб своих любимых команд и записывал результаты в таблицу. Используя данные этой таблицы, ответ на вопрос.

Номер игрового круга	«Металлург»	«Салават Юлаев»	«Ак Барс»
Первый круг	32	35	29
Второй круг	40	45	34
Третий круг	37	38	30
Четвёртый круг	44	31	46

Сколько шайб было заброшено командой «Металлург» в четвёртом круге?

12.

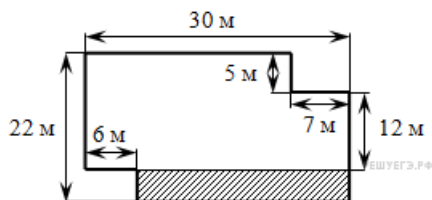
Чемпионат по хоккею проходил в четыре круга. Алексей следил за количеством заброшенных шайб своих любимых команд и записывал результаты в таблицу. Используя данные этой таблицы, ответьте на вопрос.

Номер игрового круга	«Металлург»	«Салават Юлаев»	«Ак Барс»
Первый круг	32	35	29
Второй круг	40	45	34
Третий круг	37	38	30
Четвёртый круг	44	31	46

Какая команда забросила больше всего шайб за три первых круга?

13.


На рисунке изображен план земельного участка.



Найдите периметр земельного участка. Ответ дайте в метрах.

14.

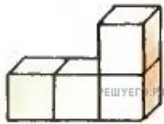
На плане одного из районов города клетками изображены кварталы, каждый из которых имеет форму квадрата со стороной 100 м. Ширина всех улиц в этом районе — 30 м.



Изобразите на плане маршрут, который начинается и заканчивается в точке С и имеет длину не меньше 1 км и не больше 1 км 200 м.

15.

Фигура, изображённая на рисунке составлена из кубиков с ребром 1 см. Найдите объём данной фигуры. Ответ дайте в см³.



16.

После строительства дома осталось некоторое количество плиток. Их можно использовать для выкладывания прямоугольной площадки на участке рядом с домом. Если укладывать в ряд по 10 плиток, то для квадратной площадки плиток не хватает. При укладывании по 8 плиток в ряд остается один неполный ряд, а при укладывании по 9 — тоже остается неполный ряд, в котором на 6 плиток меньше, чем в неполном ряду при укладывании по 8. Сколько всего плиток осталось после строительства дома?

Запишите решение и ответ.