

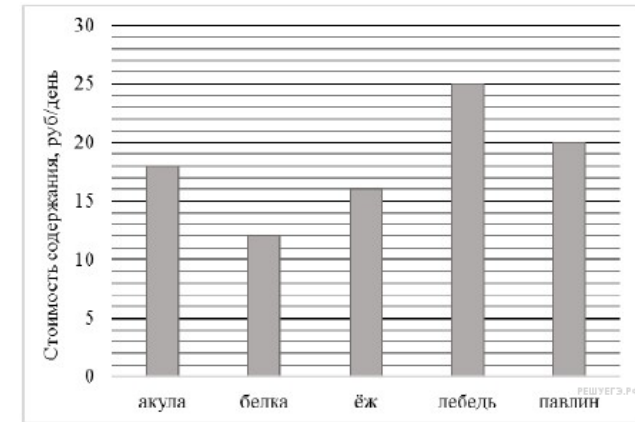
Вариант № 276317

- Найдите все двузначные числа меньше 50, которые кратны 12 и одновременно кратны 16.
- Сократите дробь $\frac{16}{26}$.
 Ответ:

- Запишите какую-нибудь десятичную дробь, расположенную между числами 14,5 и 14,6. *Ответ запишите с двумя знаками после запятой.*
- В магазин завезли овощи. Три седьмых всех овощей — помидоры, а две седьмых всех овощей — огурцы. Сколько килограммов помидоров завезли в магазин, если огурцов завезли 84 кг?
- При каком значении x верно равенство: $x : 28 = 35$?
- Юля утром вышла из дома и пошла в школу со скоростью 50 метров в минуту. Через 3 минуты вслед за ней вышел её брат Денис со скоростью 80 метров в минуту. Через несколько минут Денис догнал Юлю. Через сколько минут Денис догнал Юлю? Запишите решение и ответ.
- Объём воды в бочке составляет 95 л. В какое количество полных четырёхлитровых банок можно разлить воду из бочки?
- В театральной кассе было 400 билетов на спектакль. Осталось непроданными 20% билетов. Сколько билетов на спектакль было продано?
- Найдите значение выражения $(503,44 : 12,4 - 225,36 : 7,2) \cdot (1,6905 : 0,49)$.
Запишите решение и ответ.
- В магазин привезли 250 коробок, в каждой коробке по 54 пачки печенья. Сколько денег выручит магазин от продажи этого печенья, если одна пачка печенья стоит 32 к.?
Запишите решение и ответ.

11.

Директор зоопарка рассказал, сколько рублей в день в среднем тратится на питание (содержание) различных животных в зоопарке.



Сколько рублей в среднем тратится в день на питание одного ежа?

12.

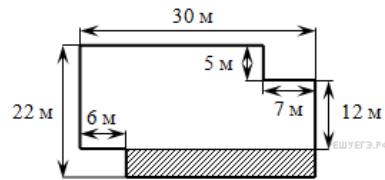
Чемпионат по хоккею проходил в четыре круга. Алексей следил за количеством заброшенных шайб своих любимых команд и записывал результаты в таблицу. Используя данные этой таблицы, ответьте на вопрос.

Номер игрового круга	«Металлург»	«Салават Юлаев»	«Ак Барс»
Первый круг	32	35	29
Второй круг	40	45	34
Третий круг	37	38	30
Четвёртый круг	44	31	46

Какая команда забросила больше всего шайб за три первых круга?

13.

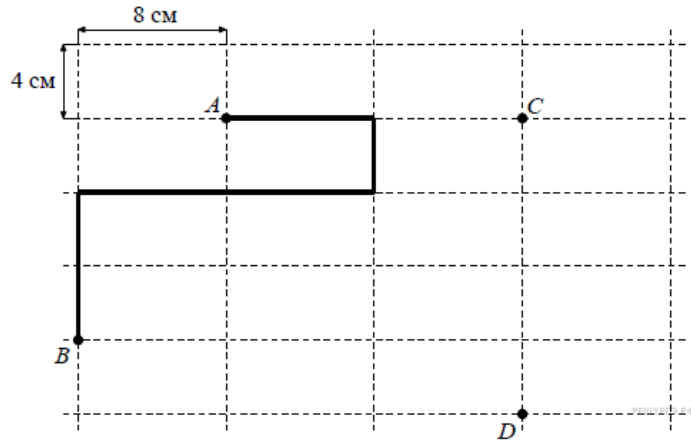
На рисунке изображен план земельного участка.



Найдите периметр земельного участка. Ответ дайте в метрах.


14.

Лист бумаги расчерчен на прямоугольники со сторонами 8 см и 4 см. От точки А к точке В проведена ломаная по сторонам прямоугольников. На рисунке, данном в условии, начертите по сторонам прямоугольников какую-нибудь ломаную, которая соединит точки С и D и будет иметь длину 32 см.



15.

На покраску одной грани кубика расходуется 1 грамм краски. Из кубиков склеили фигуру, показанную на рисунке. Сколько граммов краски нужно для покраски всех граней получившейся фигуры?



16.

Света, Маша и Оля разделили между собой 80 конфет. Света заметила, что если она отдаст все свои конфеты Маше, то у Маши и Оли станет поровну конфет, а если она отдаст все свои конфеты Оле, то у Оли станет в три раза больше конфет, чем у Маши. Сколько конфет было у Светы? Запишите решение и ответ.