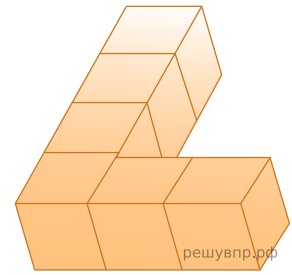
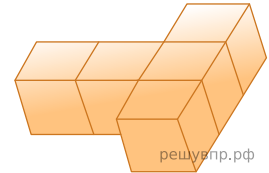


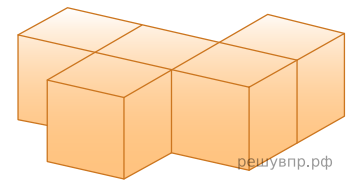
1. На покраску одной грани кубика расходуется 1 грамм краски. Из кубиков склеили фигуру, показанную на рисунке. Сколько граммов краски нужно для покраски всех граней получившейся фигуры?



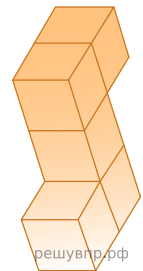
2. На покраску одной грани кубика расходуется 1 грамм краски. Из кубиков склеили фигуру, показанную на рисунке. Сколько граммов краски нужно для покраски всех граней получившейся фигуры?



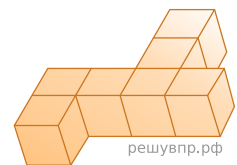
3. На покраску одной грани кубика расходуется 1 грамм краски. Из кубиков склеили фигуру, показанную на рисунке. Сколько граммов краски нужно для покраски всех граней получившейся фигуры?



4. На покраску одной грани кубика расходуется 1 грамм краски. Из кубиков склеили фигуру, показанную на рисунке. Сколько граммов краски нужно для покраски всех граней получившейся фигуры? *Единицы измерения указывать не нужно.*



5. На покраску одной грани кубика расходуется 1 грамм краски. Из кубиков склеили фигуру, показанную на рисунке. Сколько граммов краски нужно для покраски всех граней получившейся фигуры?



6. На покраску одной грани кубика расходуется 1 грамм краски. Из кубиков склеили фигуру, показанную на рисунке. Сколько граммов краски нужно для покраски всех граней получившейся фигуры?

