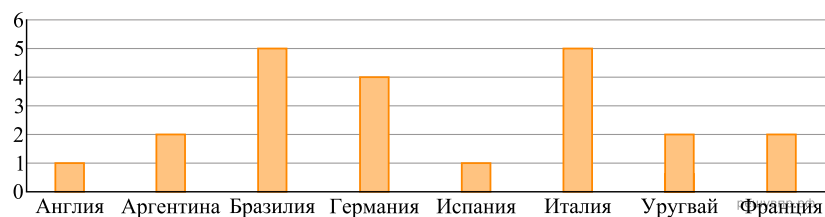
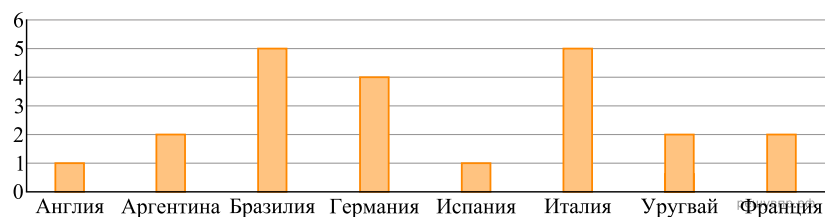


Чемпионаты мира по футболу проводятся с 1930 года. На диаграмме показано, сколько раз какая национальная сборная становилась чемпионом мира по футболу за период с 1930-го по 2019 год. Пользуясь этими данными, ответьте на вопросы.



1. Сколько раз становилась чемпионом сборная команда Франции?

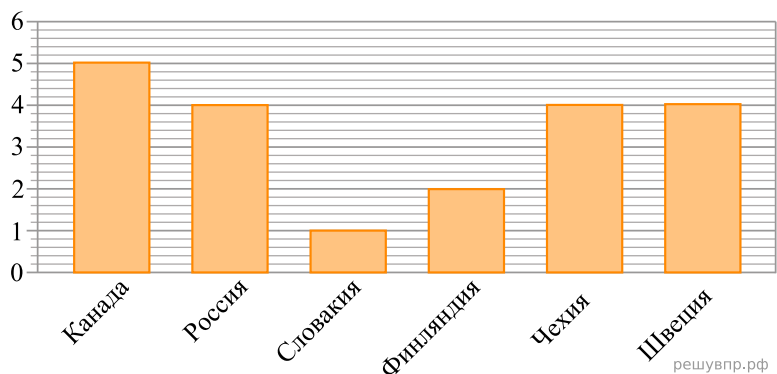
Чемпионаты мира по футболу проводятся с 1930 года. На диаграмме показано, сколько раз какая национальная сборная становилась чемпионом мира по футболу за период с 1930-го по 2019 год. Пользуясь этими данными, ответьте на вопросы.



2. Сколько раз становилась чемпионом сборная команда Бразилии?

3. Сборная команда какой страны, кроме Германии, становилась чемпионом ровно 4 раза? В ответе укажите название страны.

На диаграмме показано, сколько раз какая национальная сборная команда становилась чемпионом мира по хоккею в период с 2000-го по 2019 год. Пользуясь этими данными, ответьте на вопросы.



4. Сколько раз становилась чемпионом сборная команда Финляндии?