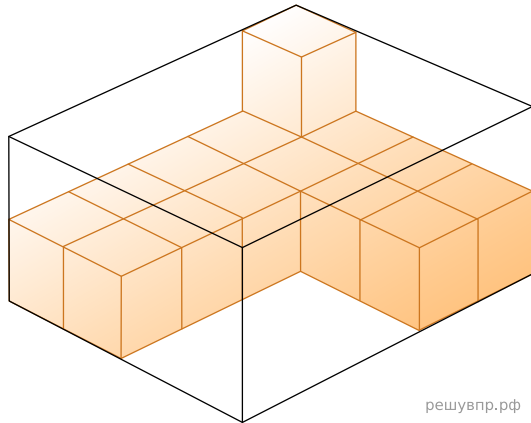
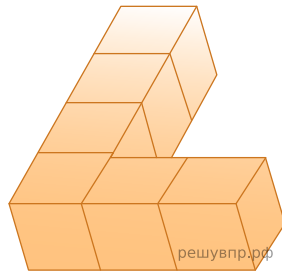


1. В прозрачный контейнер, имеющий форму параллелепипеда, начали укладывать кубики. Какое наибольшее количество кубиков поместится в контейнер?



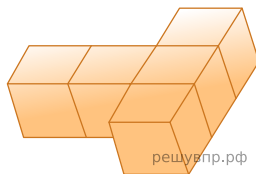
решувпр.рф

2. На покраску одной грани кубика расходуется 1 грамм краски. Из кубиков склеили фигуру, показанную на рисунке. Сколько граммов краски нужно для покраски всех граней получившейся фигуры?



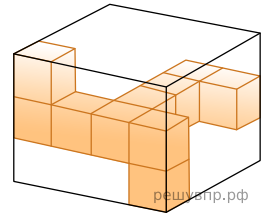
решувпр.рф

3. На покраску одной грани кубика расходуется 1 грамм краски. Из кубиков склеили фигуру, показанную на рисунке. Сколько граммов краски нужно для покраски всех граней получившейся фигуры?



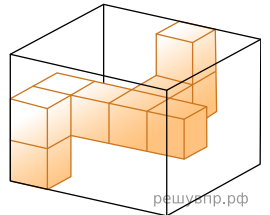
решувпр.рф

4. Изображённую на рисунке фигуру из кубиков поместили в коробку, имеющую форму прямоугольного параллелепипеда. Какое наибольшее количество таких же кубиков может поместиться в такой пустой коробке?



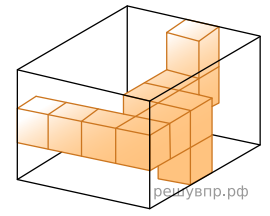
решувпр.рф

5. Изображённую на рисунке фигуру из кубиков поместили в коробку, имеющую форму прямоугольного параллелепипеда. Какое наибольшее количество таких же кубиков может поместиться в такой пустой коробке?



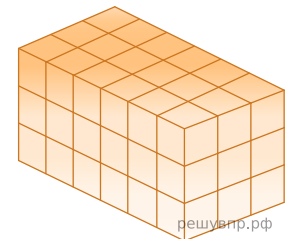
решувпр.рф

6. Изображённую на рисунке фигуру из кубиков поместили в коробку, имеющую форму прямоугольного параллелепипеда. Какое наибольшее количество таких же кубиков может поместиться в такой пустой коробке?



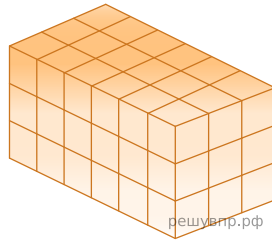
решувпр.рф

7. Из маленьких кубиков собрали параллелепипед (см. рис.). Его покрасили снаружи со всех сторон. Когда краска высохла, его снова разобрали на кубики. Сколько получилось кубиков, у которых окрашены две или три грани?




решувпр.рф

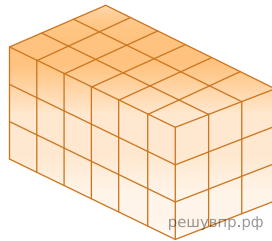
8. Из маленьких кубиков собрали параллелепипед (см. рис.). Его покрасили снаружи со всех сторон. Когда краска высохла, его снова разобрали на кубики. Сколько получилось кубиков, у которых окрашены одна или две грани?



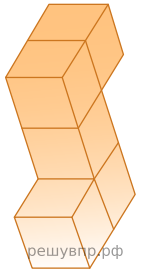
9. Из маленьких кубиков собрали параллелепипед (см. рис.). Его покрасили снаружи со всех сторон. Когда краска высохла, его снова разобрали на кубики. Сколько получилось кубиков, у которых окрашены одна или две грани?



10. Из маленьких кубиков собрали параллелепипед (см. рис.). Его покрасили снаружи со всех сторон. Когда краска высохла, параллелепипед разобрали на кубики. Сколько получилось кубиков, у которых окрашены ровно две грани?



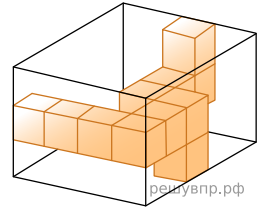
11. На покраску одной грани кубика расходуется 1 грамм краски. Из кубиков склеили фигуру, показанную на рисунке. Сколько граммов краски нужно для покраски всех граней получившейся фигуры? *Единицы измерения указывать не нужно.*




12. У Оли было 35 кубиков. Она сложила из них один большой куб, но остались лишние кубики.

Сколько лишних кубиков осталось у Оли?

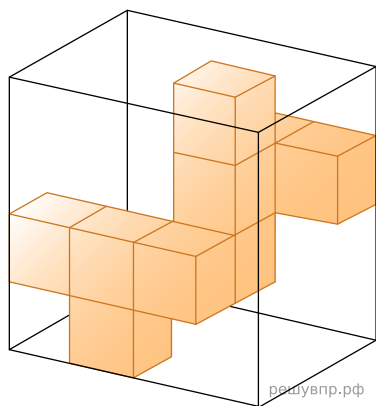
13. Изображённую на рисунке фигуру из кубиков поместили в коробку, имеющую форму прямоугольного параллелепипеда. Какое наибольшее количество таких же кубиков может поместиться в такой пустой коробке?




14. Из маленьких кубиков собрали параллелепипед (см. рис.). Его покрасили снаружи со всех сторон. Когда краска высохла, параллелепипед разобрали на кубики. Сколько получилось кубиков, у которых окрашены ровно три грани? *Единицы измерения указывать не нужно.*




15. Изображённую на рисунке фигуру из кубиков поместили в коробку, имеющую форму прямоугольного параллелепипеда. Какое наибольшее количество таких же кубиков может поместиться в такой пустой коробке?



16. У Светы было 115 кубиков. Она сложила из них прямоугольный параллелепипед, показанный на рисунке, и ещё несколько кубиков осталось. Сколько кубиков осталось?




17. Из маленьких кубиков собрали параллелепипед (см. рис.). Его покрасили снаружи со всех сторон. Когда краска высохла, параллелепипед разобрали на кубики. Сколько получилось кубиков, у которых нет окрашенных граней?



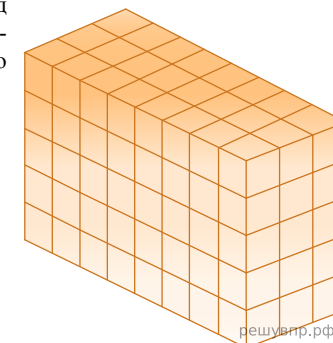
18. У Светы было 115 кубиков. Она сложила из них прямоугольный параллелепипед, показанный на рисунке, и ещё несколько кубиков осталось.

Сколько кубиков осталось?



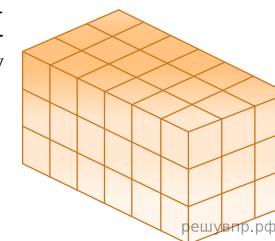
19. У Насти было 136 одинаковых кубиков. Она сложила из них самый большой куб, но остались лишние кубики. Сколько лишних кубиков осталось у Насти?

20. Из маленьких кубиков собрали параллелепипед (см. рис.). Его покрасили снаружи со всех сторон. Когда краска высохла, параллелепипед разобрали на кубики. Сколько получилось кубиков, у которых окрашены ровно три грани?

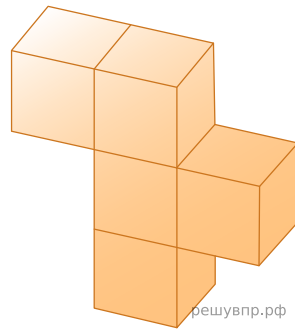


21. У Леры было 129 одинаковых кубиков. Она сложила из них самый большой куб, но остались лишние кубики. Сколько лишних кубиков осталось у Леры?

22. Из маленьких кубиков собрали параллелепипед (см. рис.). Его покрасили снаружи со всех сторон. Когда краска высохла, параллелепипед разобрали на кубики. Сколько получилось кубиков, у которых нет окрашенных граней?

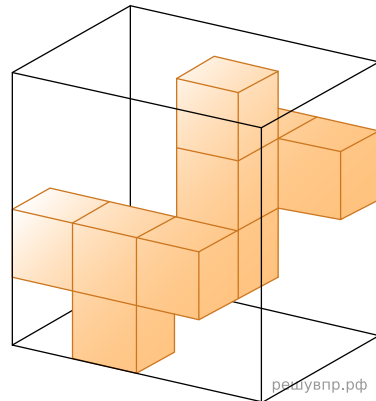


23. Из кубиков собрали фигуру (см. рис.). Её покрасили снаружи со всех сторон. Когда краска высохла, фигуру разобрали на кубики. Сколько получилось кубиков, у которых окрашены три стороны (границы)?




24. У Марины было 112 одинаковых кубиков. Она сложила прямоугольный параллелепипед: 14 кубиков в длину, 3 кубика в ширину и 2 кубика в высоту. Сколько кубиков у неё ещё осталось?

25. Изображённую на рисунке фигуру из кубиков поместили в коробку, имеющую форму прямоугольного параллелепипеда. Какое наибольшее количество таких же кубиков может поместиться в такой пустой коробке?

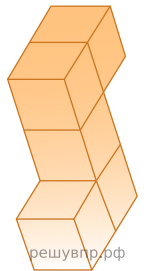


26. У Кати было 132 кубика. Она сложила из них прямоугольный параллелепипед, показанный на рисунке, и ещё несколько кубиков осталось.

Сколько кубиков осталось?

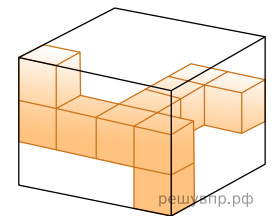


27. Из кубиков собрали фигуру (см. рис.). Её покрасили снаружи со всех сторон. Когда краска высохла, фигуру разобрали на кубики. Сколько получилось кубиков, у которых окрашены пять сторон (граней)?



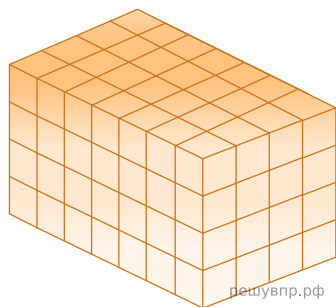
28. У Даши было 76 одинаковых кубиков. Она сложила из них самый большой куб, но остались лишние кубики. Сколько лишних кубиков осталось у Даши?

29. Изображённую на рисунке фигуру из кубиков поместили в коробку, имеющую форму прямоугольного параллелепипеда. Какое наибольшее количество таких же кубиков может поместиться в такой пустой коробке?

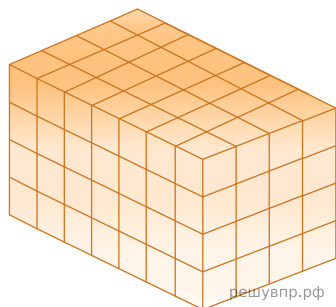


30. У Евгении было 153 одинаковых кубика. Она сложила прямоугольный параллелепипед: 11 кубиков в длину, 6 кубиков в ширину и 2 кубика в высоту. Сколько кубиков у неё ещё осталось?

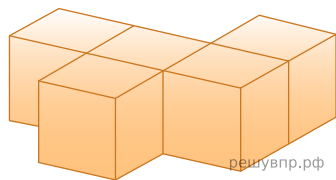
31. Из маленьких кубиков собрали параллелепипед (см. рис.). Его покрасили снаружи со всех сторон. Когда краска высохла, параллелепипед разобрали на кубики. Сколько получилось кубиков, у которых окрашены ровно три грани?



32. Из маленьких кубиков собрали параллелепипед (см. рис.). Его покрасили снаружи со всех сторон. Когда краска высохла, параллелепипед разобрали на кубики. Сколько получилось кубиков, у которых окрашена только одна грань?



33. На покраску одной грани кубика расходуется 1 грамм краски. Из кубиков склеили фигуру, показанную на рисунке. Сколько граммов краски нужно для покраски всех граней получившейся фигуры?



34. В коробку размером  $9\text{ см} \times 30\text{ см} \times 60\text{ см}$  плотно уложили кубики размером  $3\text{ см} \times 3\text{ см} \times 3\text{ см}$ , заполнив полностью коробку. Затем из коробки достали 50 кубиков. Сколько кубиков осталось в коробке?