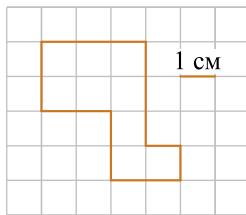
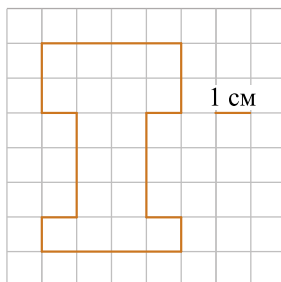


1. На клетчатой бумаге со стороной клетки 1 см нарисована фигура. Найдите периметр этой фигуры. Ответ дайте в сантиметрах.



решувпр.рф

2. Бумага расчерчена на квадраты со стороной 1 см. Найдите площадь нарисованной фигуры. Ответ дайте в кв. см.



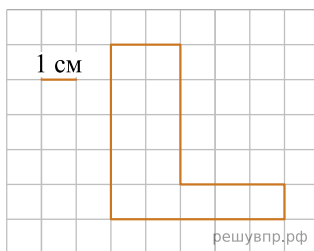
решувпр.рф

3.

На клетчатой бумаге нарисована фигура. Сторона клетки равна 1 см.

Найди периметр этой фигуры. Ответ дай в сантиметрах.

*В ответе писать единицы измерения не нужно.*



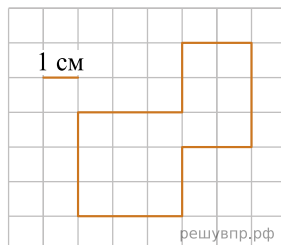
решувпр.рф

4.

На клетчатой бумаге нарисована фигура. Сторона клетки равна 1 см.

Найди периметр этой фигуры. Ответ дай в сантиметрах.

*В ответе писать единицы измерения не нужно.*



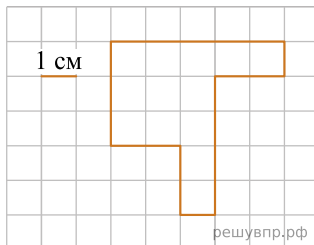
решувпр.рф

5.

На клетчатой бумаге нарисована фигура. Сторона клетки равна 1 см.

Найди периметр этой фигуры. Ответ дай в сантиметрах.

*В ответе писать единицы измерения не нужно.*



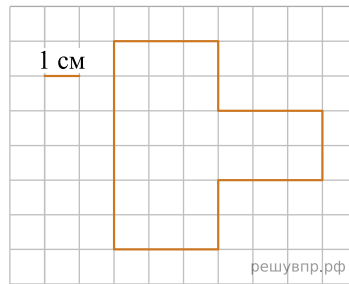
решувпр.рф

6.

На клетчатой бумаге нарисована фигура. Сторона клетки равна 1 см.

Найди периметр этой фигуры. Ответ дай в сантиметрах.

*В ответе писать единицы измерения не нужно.*

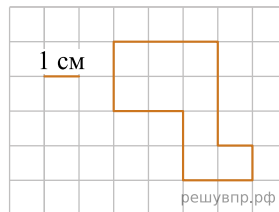


7.

На клетчатой бумаге нарисована фигура. Сторона клетки равна 1 см.

Найди периметр этой фигуры. Ответ дай в сантиметрах.

*В ответе писать единицы измерения не нужно.*

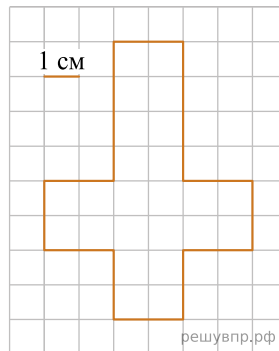


8.

На клетчатой бумаге нарисована фигура. Сторона клетки равна 1 см.

Найди площадь этой фигуры. Ответ дай в кв. см.

*В ответе писать единицы измерения не нужно.*

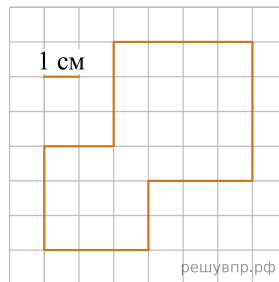


9.

На клетчатой бумаге нарисована фигура. Сторона клетки равна 1 см.

Найди площадь этой фигуры. Ответ дай в кв. см.

*В ответе писать единицы измерения не нужно.*

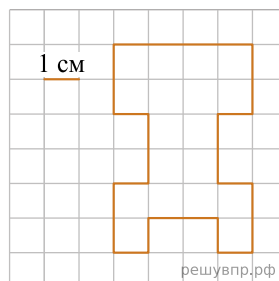


10.

На клетчатой бумаге нарисована фигура. Сторона клетки равна 1 см.

Найди площадь этой фигуры. Ответ дай в кв. см.

*В ответе писать единицы измерения не нужно.*

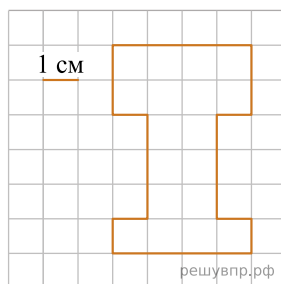


11.

На клетчатой бумаге нарисована фигура. Сторона клетки равна 1 см.

Найди площадь этой фигуры. Ответ дай в кв. см.

*В ответе писать единицы измерения не нужно.*

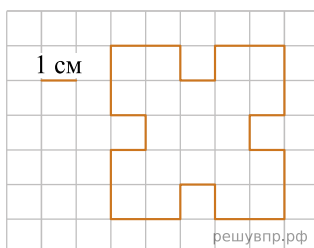


12.

На клетчатой бумаге нарисована фигура. Сторона клетки равна 1 см.

Найди площадь этой фигуры. Ответ дай в кв. см.

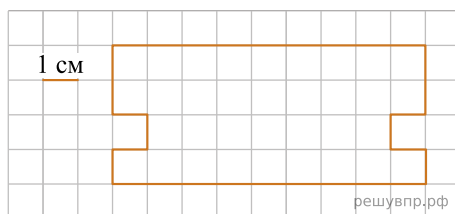
*В ответе писать единицы измерения не нужно.*



13.

На клетчатом поле со стороной квадратной клетки 1 см изображена фигура.

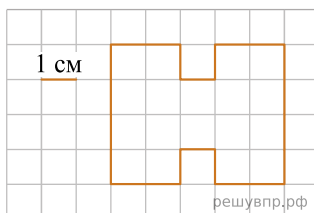
Найди периметр этой фигуры.



14.

Ниже на клетчатом поле со стороной клетки 1 см изображена фигура.

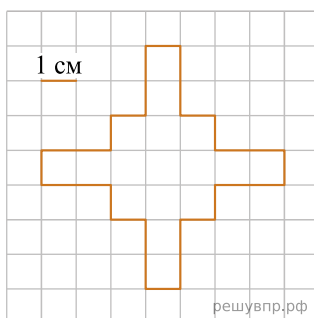
Найди площадь этой фигуры.



15.

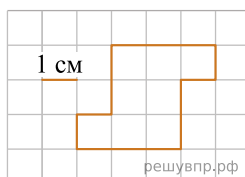
Ниже на клетчатом поле со стороной клетки 1 см изображена фигура.

Найди площадь этой фигуры.



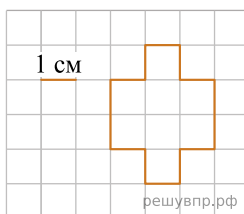
16.

На клетчатом поле со стороной клетки 1 см изображена фигура. Найди периметр этой фигуры.



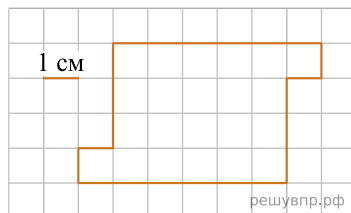
17.

На клетчатом поле со стороной клетки 1 см изображена фигура. Найди периметр этой фигуры.



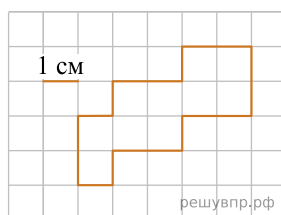
18.

На клетчатом поле со стороной квадратной клетки 1 см изображена фигура. Найди периметр этой фигуры.



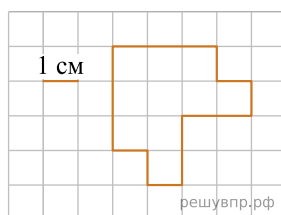
19.

Ниже на клетчатом поле со стороной клетки 1 см изображена фигура. Найди периметр этой фигуры.



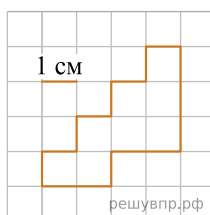
20.

Ниже на клетчатом поле со стороной клетки 1 см изображена фигура. Найди периметр этой фигуры.



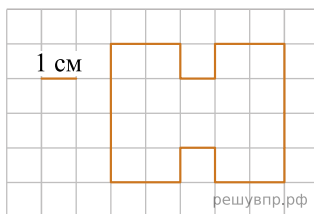
21.

Ниже на клетчатом поле со стороной клетки 1 см изображена фигура. Найди периметр этой фигуры.



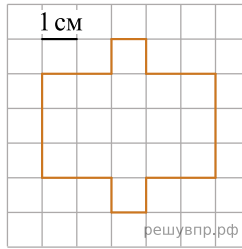
22.

На клетчатом поле со стороной квадратной клетки 1 см изображена фигура. Найди периметр этой фигуры.



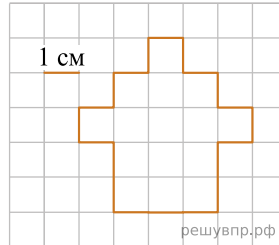
23.

Ниже на клетчатом поле со стороной клетки 1 см изображена фигура. Найди периметр этой фигуры.



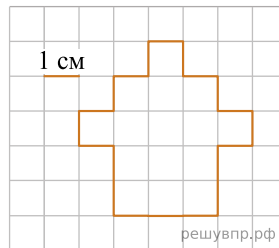
24.

Ниже на клетчатом поле со стороной клетки 1 см изображена фигура. Найди периметр этой фигуры.

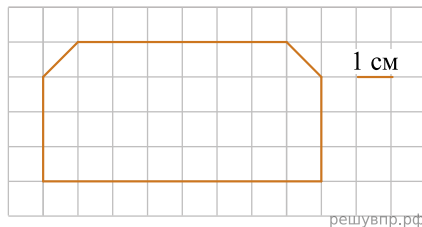


25.

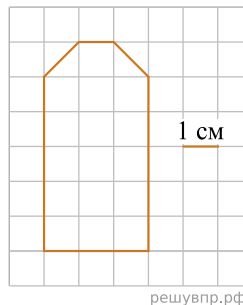
Ниже на клетчатом поле со стороной клетки 1 см изображена фигура. Найди площадь этой фигуры.



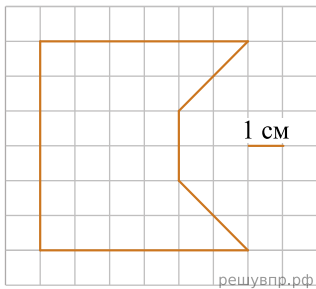
26. Бумага расчерчена на квадраты со стороной 1 см. Найдите площадь нарисованной фигуры. Ответ дайте в кв. см.



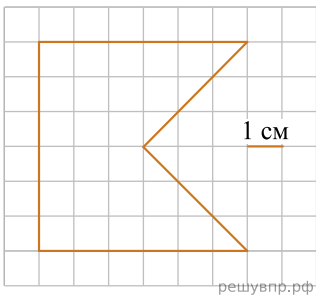
27. Бумага расчерчена на квадраты со стороной 1 см. Найдите площадь нарисованной фигуры. Ответ дайте в кв. см.



28. Бумага расчерчена на квадраты со стороной 1 см. Найдите площадь нарисованной фигуры. Ответ дайте в кв. см.



29. Бумага расчерчена на квадраты со стороной 1 см. Найдите площадь нарисованной фигуры. Ответ дайте в кв. см.



30. Бумага расчерчена на квадраты со стороной 1 см. Найдите площадь нарисованной фигуры. Ответ дайте в кв. см.

