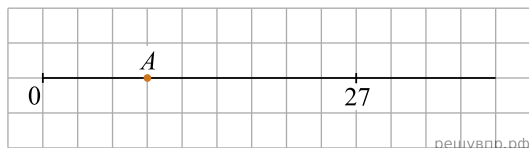
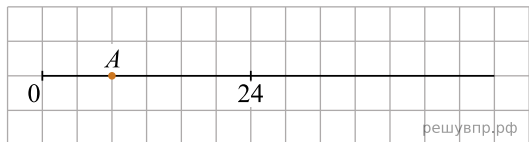


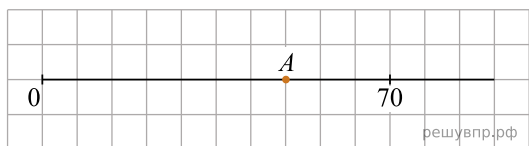
1. Найдите координату точки  $A$ , отмеченной на числовом луче.



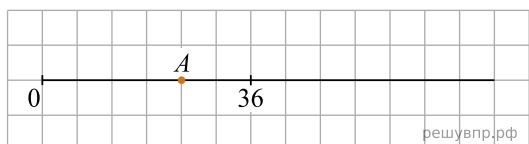
2. Найдите координату точки  $A$ , отмеченной на числовом луче.



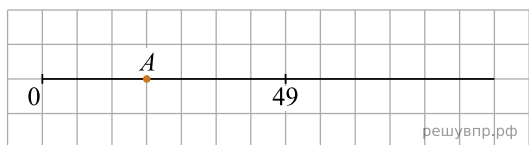
3. Найдите координату точки  $A$ , отмеченной на числовом луче.



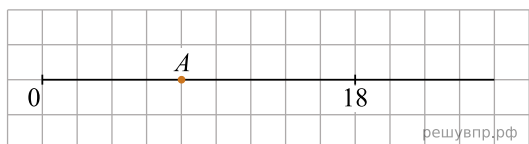
4. Найдите координату точки  $A$ , отмеченной на числовом луче.



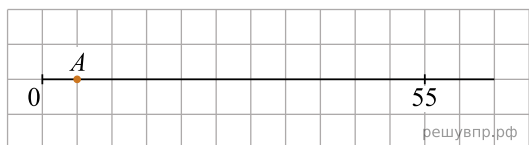
5. Найдите координату точки  $A$ , отмеченной на числовом луче.



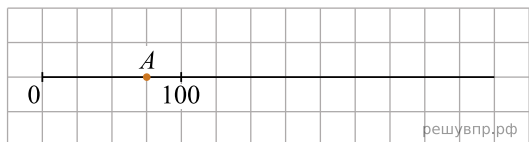
6. Найдите координату точки  $A$ , отмеченной на числовом луче.



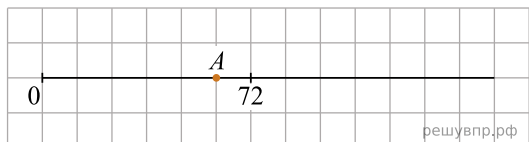
7. Найдите координату точки  $A$ , отмеченной на числовом луче.



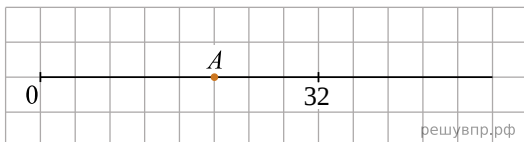
8. Найдите координату точки  $A$ , отмеченной на числовом луче.



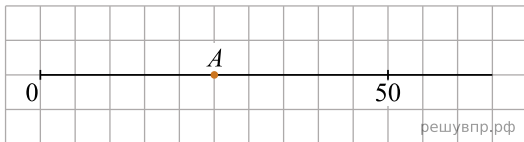
9. Найдите координату точки  $A$ , отмеченной на числовом луче.



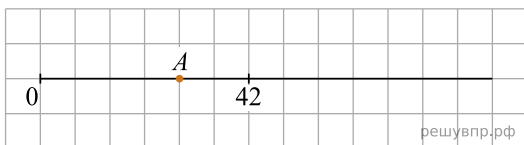
10. Найдите координату точки  $A$ , отмеченной на числовом луче.



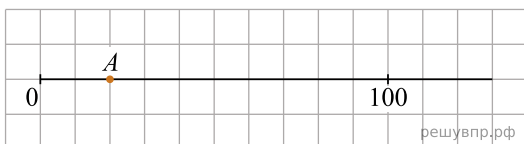
11. Найдите координату точки  $A$ , отмеченной на числовом луче.



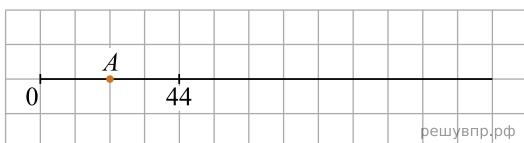
12. Найдите координату точки  $A$ , отмеченной на числовом луче.



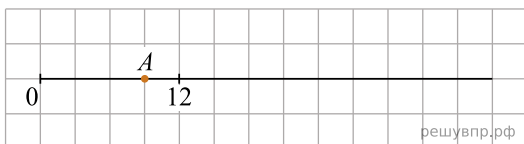
13. Найдите координату точки  $A$ , отмеченной на числовом луче.



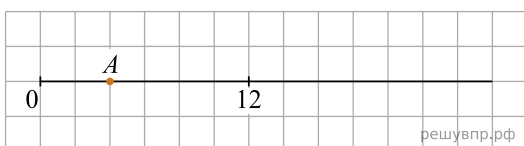
14. Найдите координату точки  $A$ , отмеченной на числовом луче.



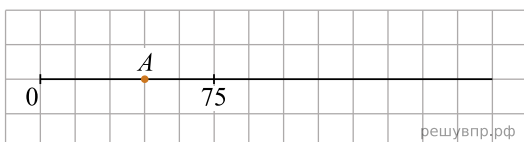
15. Найдите координату точки  $A$ , отмеченной на числовом луче.



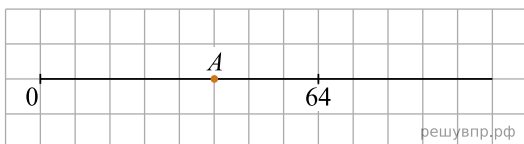
16. Найдите координату точки  $A$ , отмеченной на числовом луче.



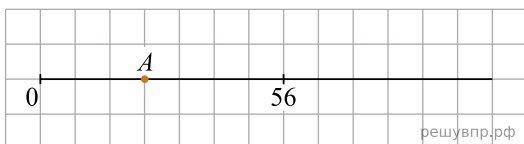
17. Найдите координату точки  $A$ , отмеченной на числовом луче.



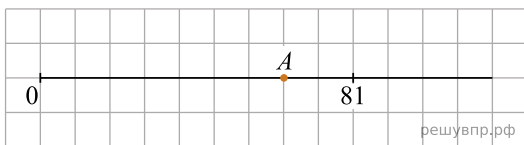
18. Найдите координату точки  $A$ , отмеченной на числовом луче.



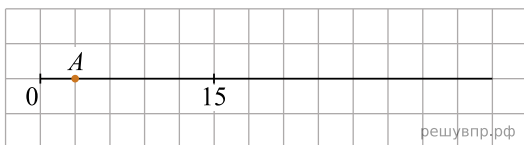
19. Найдите координату точки  $A$ , отмеченной на числовом луче.



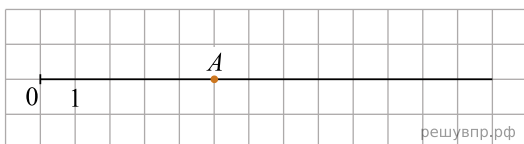
20. Найдите координату точки  $A$ , отмеченной на числовом луче.



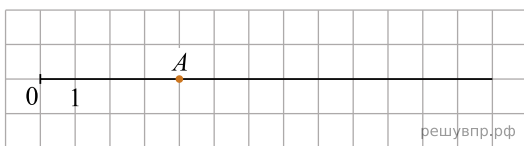
21. Найдите координату точки  $A$ , отмеченной на числовом луче.



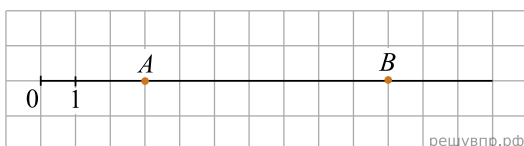
22. Найдите координату точки  $A$ , отмеченной на числовом луче.



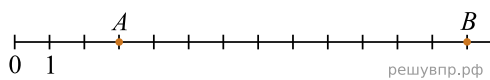
23. Найдите координату точки  $A$ , отмеченной на числовом луче.



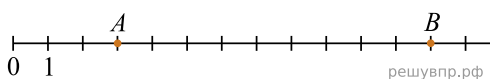
24. На числовом луче точками  $A$  и  $B$  отмечены два числа. Найдите, на сколько число  $B$  больше числа  $A$ .



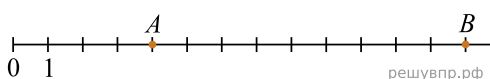
25. На числовом луче точками  $A$  и  $B$  отмечены два числа. Найдите, на сколько число  $B$  больше числа  $A$ .



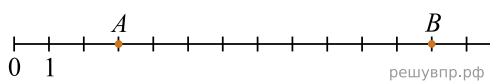
26. На числовом луче точками  $A$  и  $B$  отмечены два числа. Найдите, на сколько число  $A$  меньше числа  $B$ .



27. На числовом луче точками  $A$  и  $B$  отмечены два числа. Найдите, на сколько число  $A$  меньше числа  $B$ .



28. На числовом луче точками  $A$  и  $B$  отмечены два числа. Найдите, на сколько число  $B$  больше числа  $A$ .



29. Найдите координату точки  $A$ , отмеченной на числовом луче.

