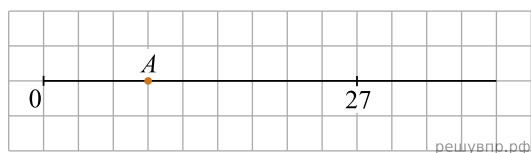
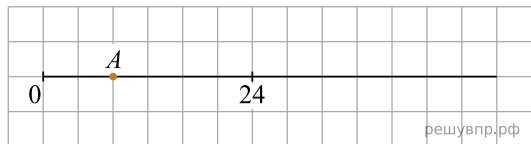


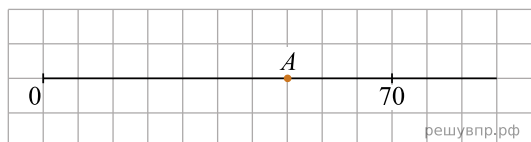
1. Найдите координату точки A , отмеченной на числовом луче.



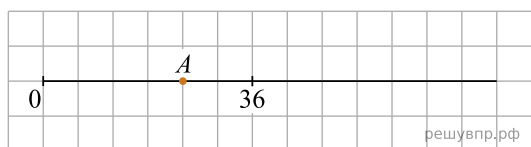
2. Найдите координату точки A , отмеченной на числовом луче.



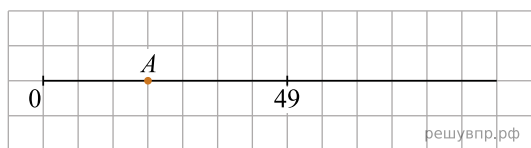
3. Найдите координату точки A , отмеченной на числовом луче.



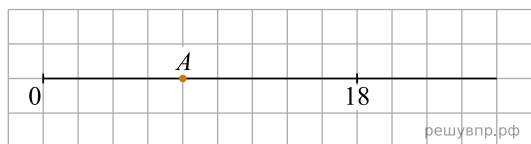
4. Найдите координату точки A , отмеченной на числовом луче.



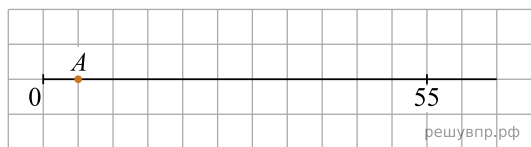
5. Найдите координату точки A , отмеченной на числовом луче.




6. Найдите координату точки A , отмеченной на числовом луче.



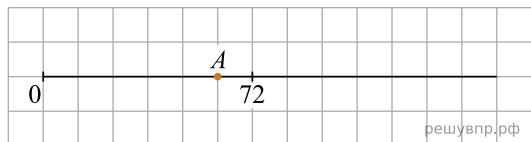
7. Найдите координату точки A , отмеченной на числовом луче.



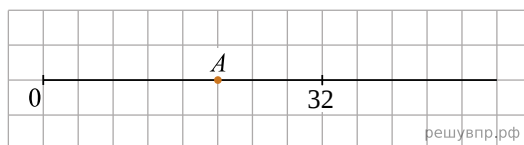
8. Найдите координату точки A , отмеченной на числовом луче.



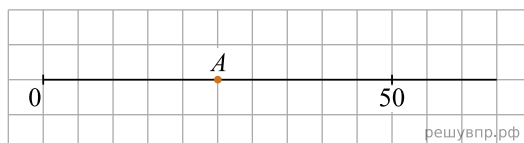
9. Найдите координату точки A , отмеченной на числовом луче.



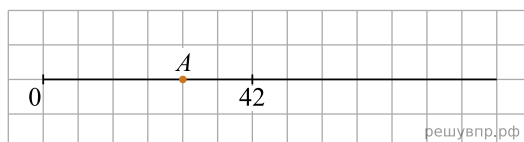
10. Найдите координату точки A , отмеченной на числовом луче.



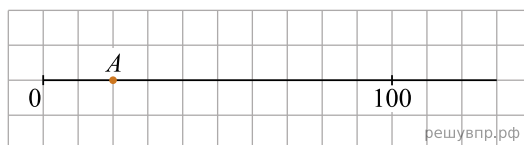
11. Найдите координату точки A , отмеченной на числовом луче.



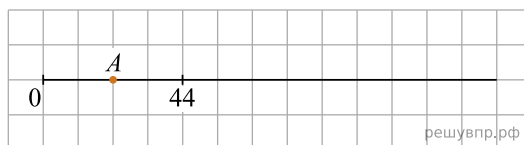
12. Найдите координату точки A , отмеченной на числовом луче.



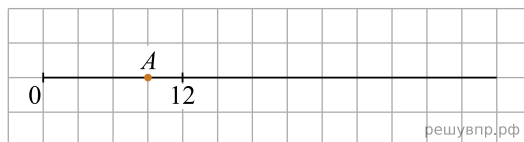
13. Найдите координату точки A , отмеченной на числовом луче.



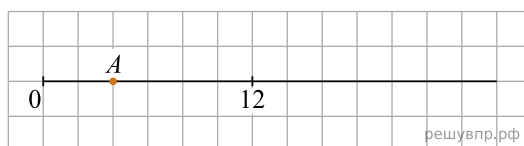
14. Найдите координату точки A , отмеченной на числовом луче.



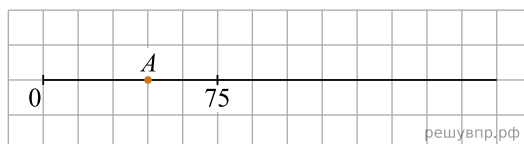
15. Найдите координату точки A , отмеченной на числовом луче.



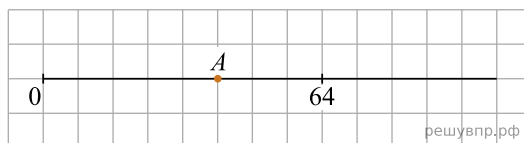
16. Найдите координату точки A , отмеченной на числовом луче.



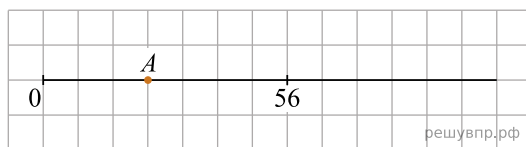
17. Найдите координату точки A , отмеченной на числовом луче.



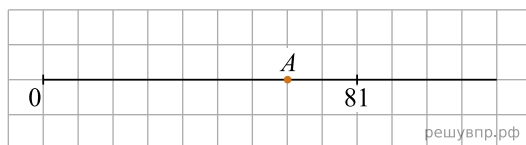
18. Найдите координату точки A , отмеченной на числовом луче.



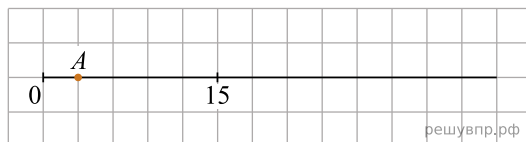
19. Найдите координату точки A , отмеченной на числовом луче.



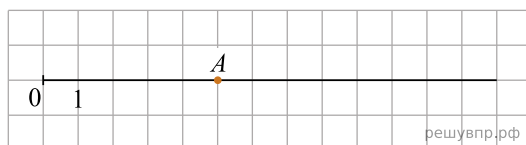
20. Найдите координату точки A , отмеченной на числовом луче.



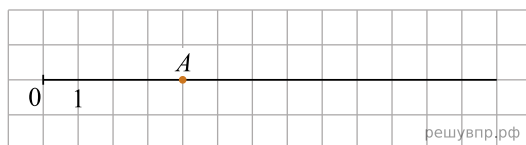
21. Найдите координату точки A , отмеченной на числовом луче.



22. Найдите координату точки A , отмеченной на числовом луче.



23. Найдите координату точки A , отмеченной на числовом луче.



24. На числовом луче точками A и B отмечены два числа. Найдите, на сколько число B больше числа A .

