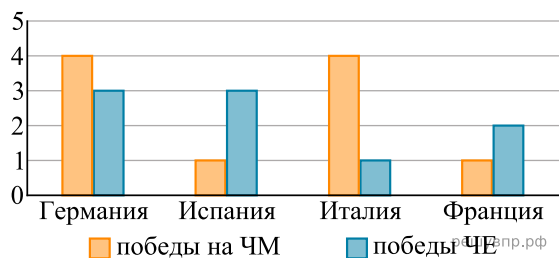
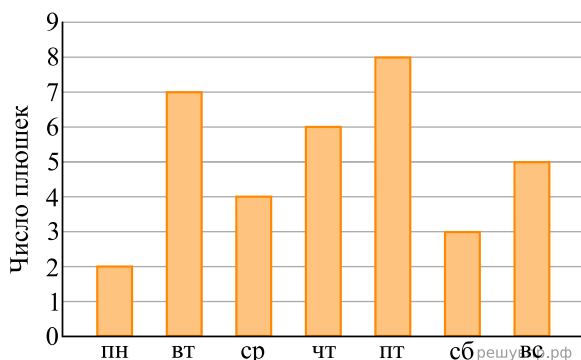


На диаграмме показано, сколько побед одержали команды четырёх европейских стран в чемпионатах мира (ЧМ) и чемпионатах Европы (ЧЕ) по футболу. Пользуясь этими данными, выполните задания.



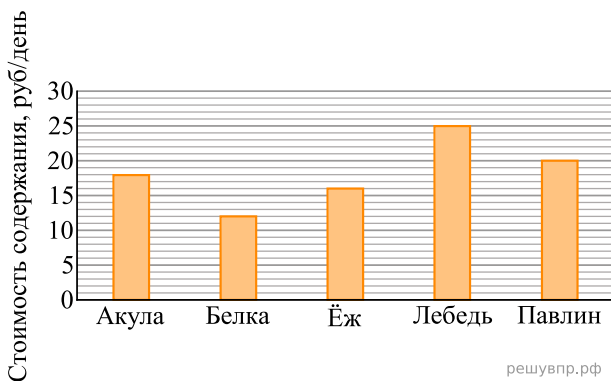
1. Укажите страну, у команды которой число побед в чемпионатах Европы больше числа побед в чемпионатах мира в три раза.

На диаграмме показано, сколько плюшек съедал Карлсон в каждый день недели. Пользуясь этими данными, ответьте на вопросы



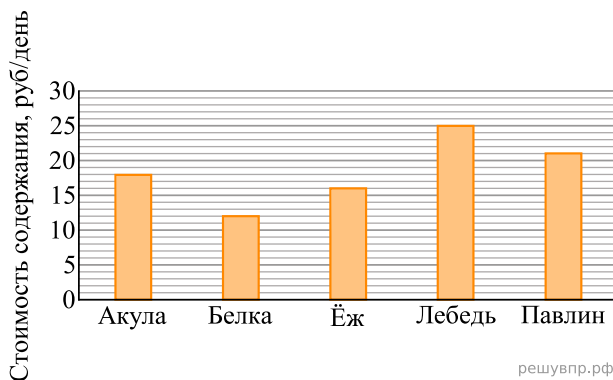
2. Сколько всего плюшек съел Карлсон за три первых дня недели?

Директор зоопарка рассказал, сколько рублей в день в среднем тратится на питание (содержание) различных животных в зоопарке.



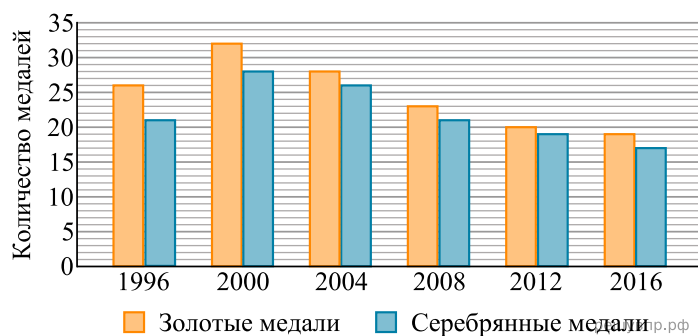
3. Сколько рублей в среднем тратится на питание одной белки за две недели?

Директор зоопарка рассказал, сколько рублей в день в среднем тратится на питание (содержание) различных животных в зоопарке.



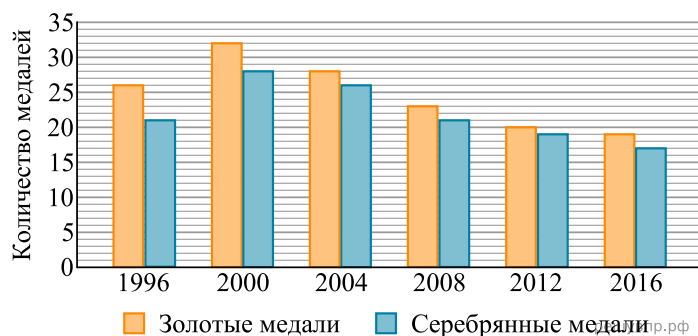
4. Сколько рублей в среднем тратится на питание одного павлина за две недели?

На диаграмме показано, сколько золотых и серебряных медалей завоевали российские спортсмены на Олимпийских играх в разные годы.



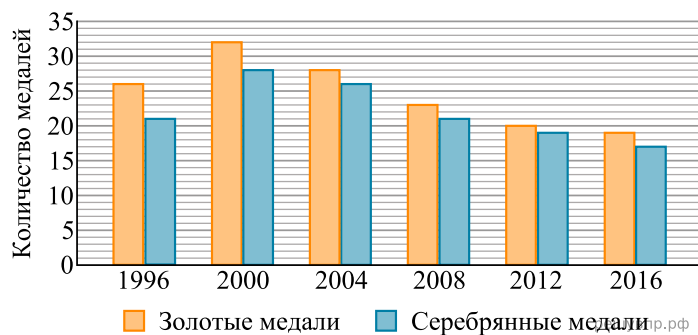
5. В каком году разность между количеством золотых и серебряных медалей была наибольшей?

На диаграмме показано, сколько золотых и серебряных медалей завоевали российские спортсмены на Олимпийских играх в разные годы.



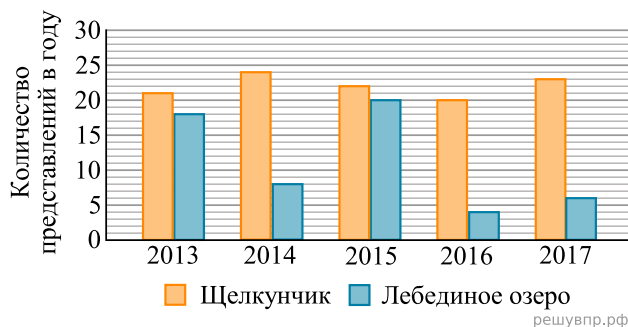
6. В каком году разность между количеством полученных золотых и серебряных медалей была наименьшей?

На диаграмме показано, сколько золотых и серебряных медалей завоевали российские спортсмены на Олимпийских играх в разные годы.



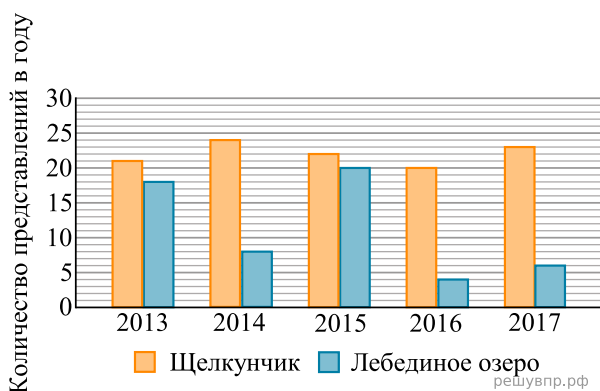
7. Сколько всего серебряных медалей завоевали российские спортсмены на Олимпийских играх 2004 и 2008 годов?

На диаграмме показано, сколько раз в Большом театре шли балеты «Щелкунчик» и «Лебединое озеро» в течение пяти лет.



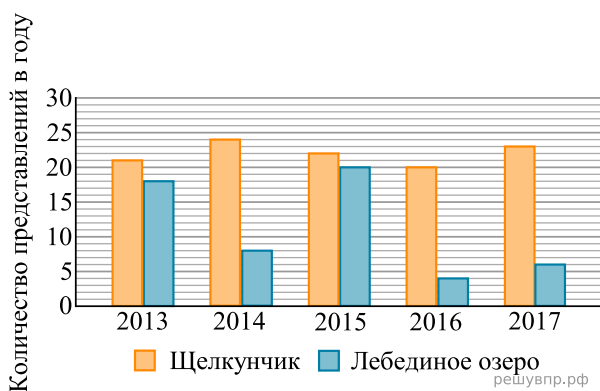
8. Сколько всего раз шёл балет «Лебединое озеро» в Большом театре в течение трёх лет, с 2013 по 2015 год?

На диаграмме показано, сколько раз в Большом театре шли балеты «Щелкунчик» и «Лебединое озеро» в течение пяти лет.



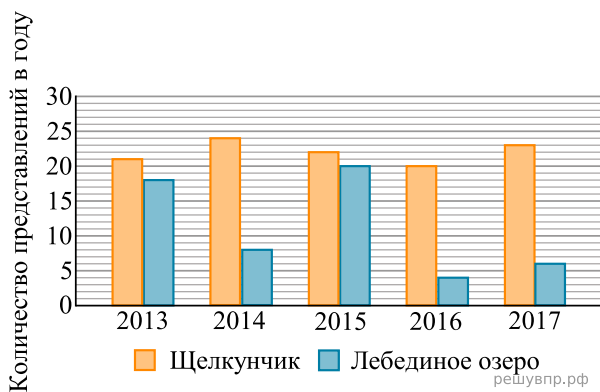
9. Сколько всего раз шёл балет «Лебединое озеро» в Большом театре в течение трёх лет, с 2014 по 2016 год?

На диаграмме показано, сколько раз в Большом театре шли балеты «Щелкунчик» и «Лебединое озеро» в течение пяти лет.



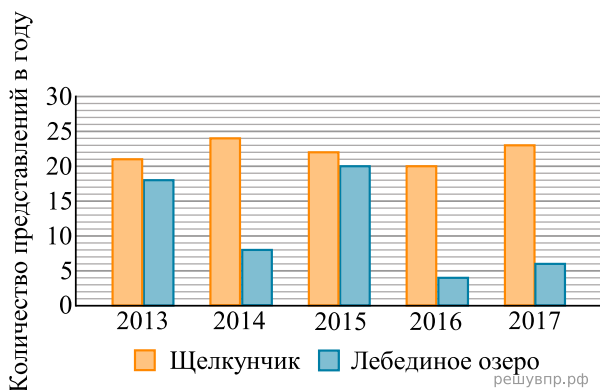
10. Сколько всего раз шёл балет «Щелкунчик» в Большом театре в течение трёх лет, с 2013 по 2015 год?

На диаграмме показано, сколько раз в Большом театре шли балеты «Щелкунчик» и «Лебединое озеро» в течение пяти лет.



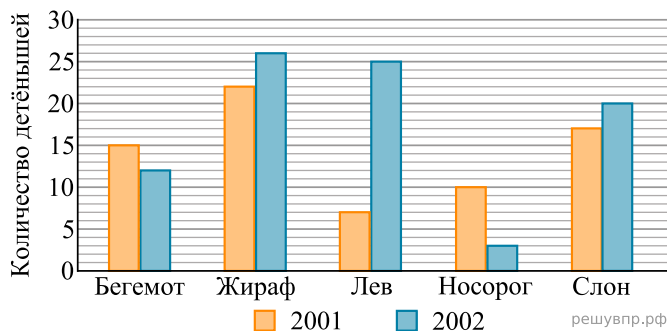
**11.** Сколько всего раз шёл балет «Щелкунчик» в Большом театре в течение трёх лет, с 2015 по 2017 год?

На диаграмме показано, сколько раз в Большом театре шли балеты «Щелкунчик» и «Лебединое озеро» в течение пяти лет.



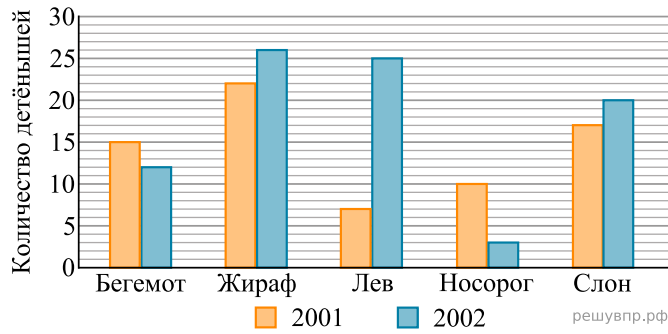
**12.** Сколько всего раз шёл балет «Лебединое озеро» в Большом театре в течение трёх лет, с 2015 по 2017 год?

На диаграмме показано, сколько детёнышей родилось у некоторых зверей в зоопарках мира в 2001 и 2002 годах.



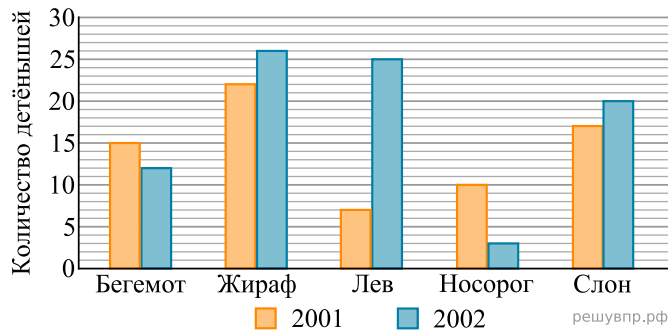
**13.** На сколько больше детёнышей льва родилось в 2002 году, чем в 2001 году? В ответе запишите только число.

На диаграмме показано, сколько детёнышей родилось у некоторых зверей в зоопарках мира в 2001 и 2002 годах.



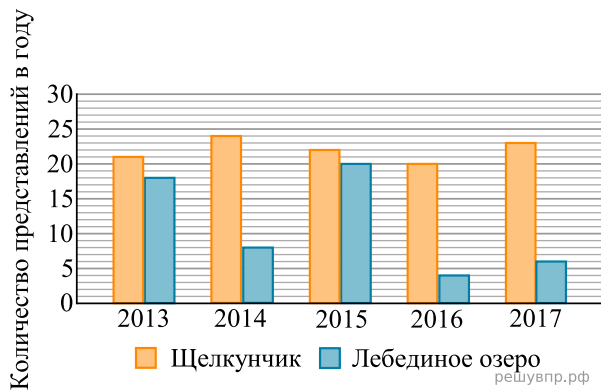
**14.** Сколько всего детёнышей носорога родилось за два года?

На диаграмме показано, сколько детёнышей родилось у некоторых зверей в зоопарках мира в 2001 и 2002 годах.



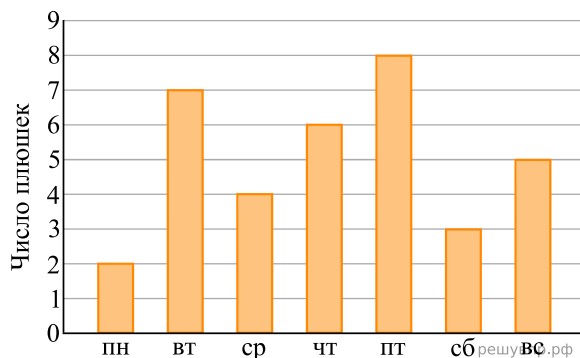
**15.** На сколько больше детёнышей бегемота родилось в 2001 году, чем в 2002 году?

На диаграмме показано, сколько раз в Большом театре шли балеты «Щелкунчик» и «Лебединое озеро» в течение пяти лет.



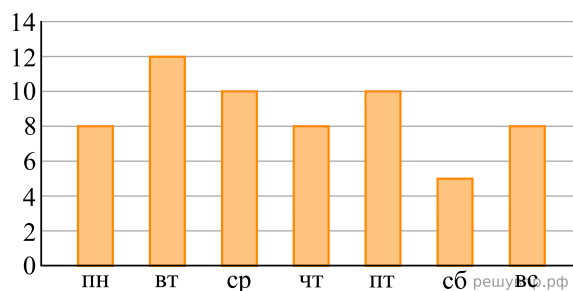
**16.** Сколько всего раз шёл балет «Лебединое озеро» в Большом театре в течение трёх лет, с 2014 по 2016 год?

На диаграмме показано, сколько плюшек съедал Карлсон в каждый день недели. Пользуясь этими данными, ответьте на вопросы.



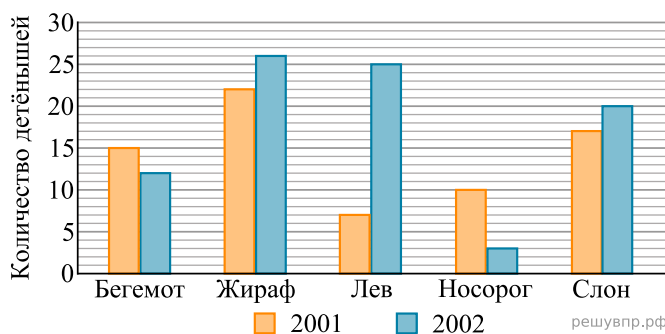
**17.** Сколько всего плюшек съел Карлсон за три первых дня недели?

Юля в течение недели читала книгу «Маугли». На диаграмме показано, сколько страниц она читала каждый день. По вертикали указано количество прочитанных страниц, по горизонтали — дни недели.



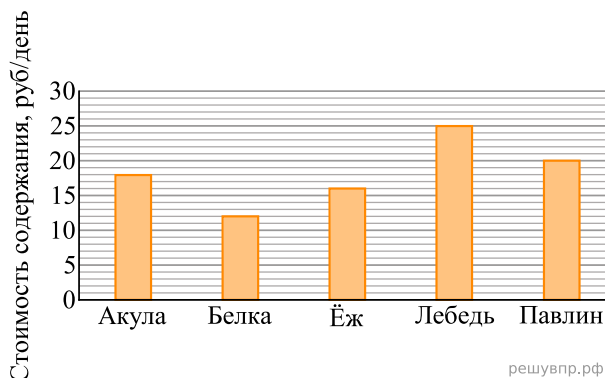
18. На сколько страниц меньше Юля прочитала в воскресенье, чем в среду?

На диаграмме показано, сколько детёнышей родилось у некоторых зверей в зоопарках мира в 2001 и 2002 годах.



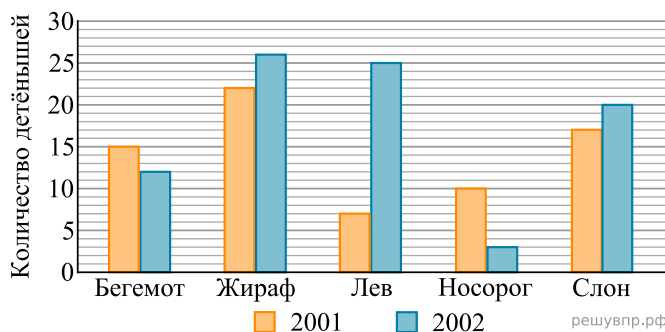
19. Сколько всего детёнышей жирафа родилось за два года?

Директор зоопарка рассказал, сколько рублей в день в среднем тратится на питание (содержание) различных животных в зоопарке.



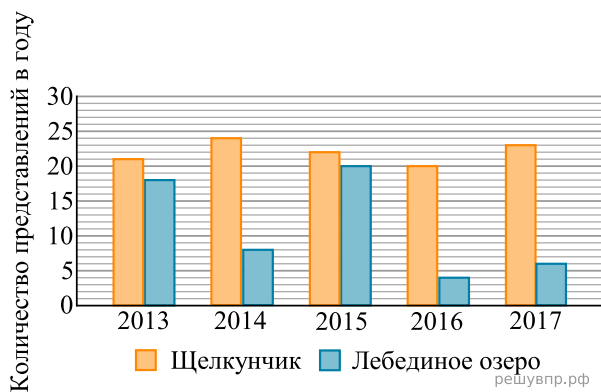
20. Сколько рублей в среднем тратится на питание одной белки за две недели?

На диаграмме показано, сколько детёнышей родилось у некоторых зверей в зоопарках мира в 2001 и 2002 годах.



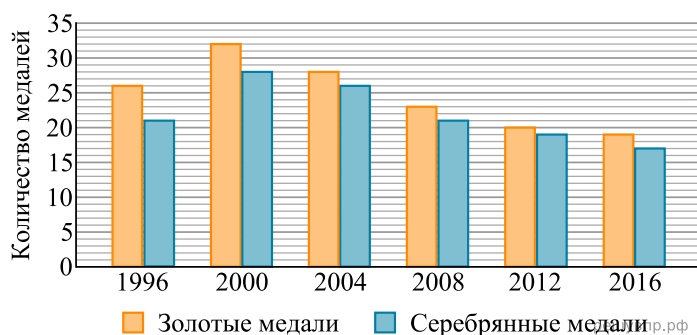
21. На сколько больше детёнышей льва родилось в 2002 году, чем в 2001 году?

На диаграмме показано, сколько раз в Большом театре шли балеты «Щелкунчик» и «Лебединое озеро» в течение пяти лет.



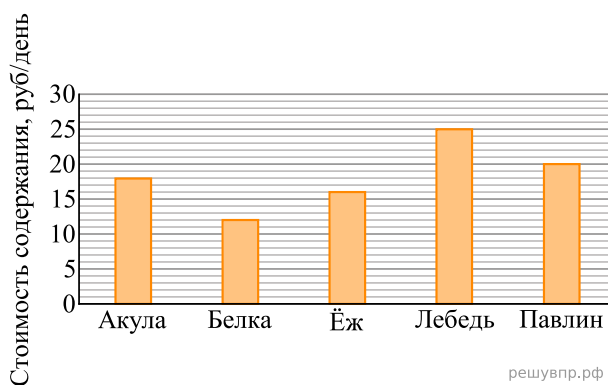
22. Сколько всего раз шёл балет «Щелкунчик» в Большом театре в течение трёх лет, с 2013 по 2015 год?

На диаграмме показано, сколько золотых и серебряных медалей завоевали российские спортсмены на Олимпийских играх в разные годы.



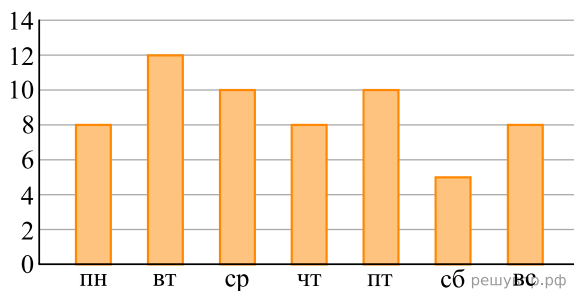
23. Сколько всего серебряных медалей завоевали российские спортсмены на Олимпийских играх 2004 и 2008 годов?

Директор зоопарка рассказал, сколько рублей в день в среднем тратится на питание (содержание) различных животных в зоопарке.



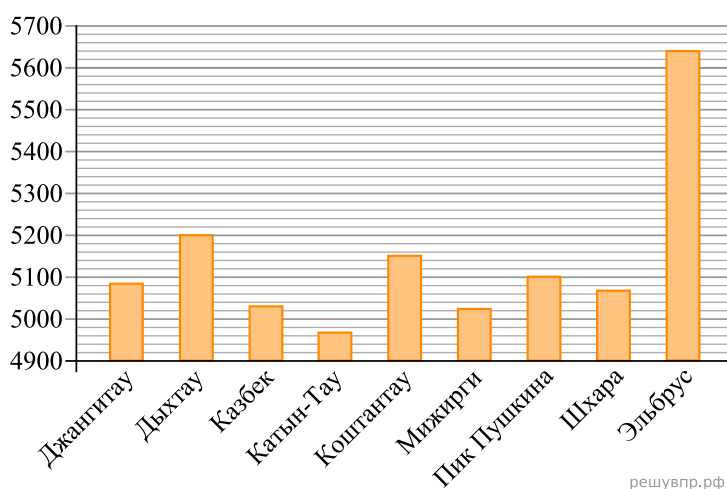
24. Сколько рублей в среднем тратится на питание одной белки за две недели?

Маша в течение недели читала книгу «Маугли». На диаграмме показано, сколько страниц она читала каждый день. По вертикали указано количество прочитанных страниц, по горизонтали — дни недели. Пользуясь этими данными, ответьте на вопросы.



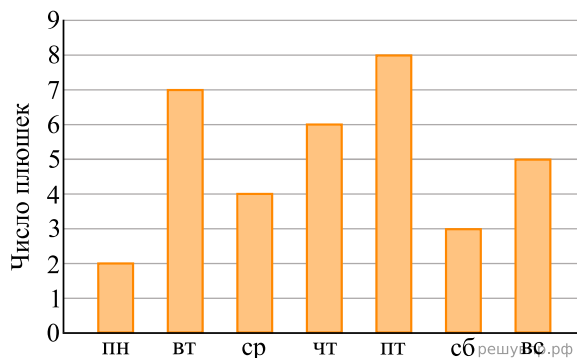
**25.** На сколько страниц меньше Маша прочитала в четверг, чем во вторник? В ответе укажите одно число — количество страниц.

На диаграмме показаны высоты девяти самых высоких гор России. По вертикали указана высота в метрах над уровнем моря, по горизонтали — названия гор.

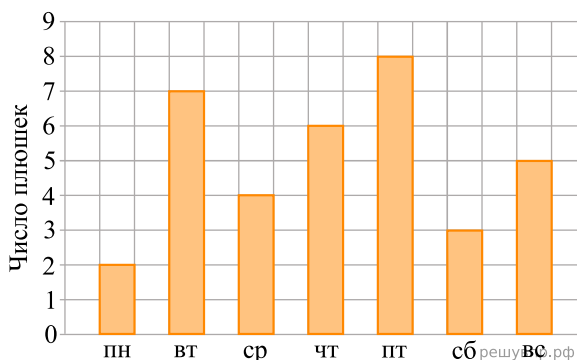


**26.** Какая гора занимает второе место по высоте?

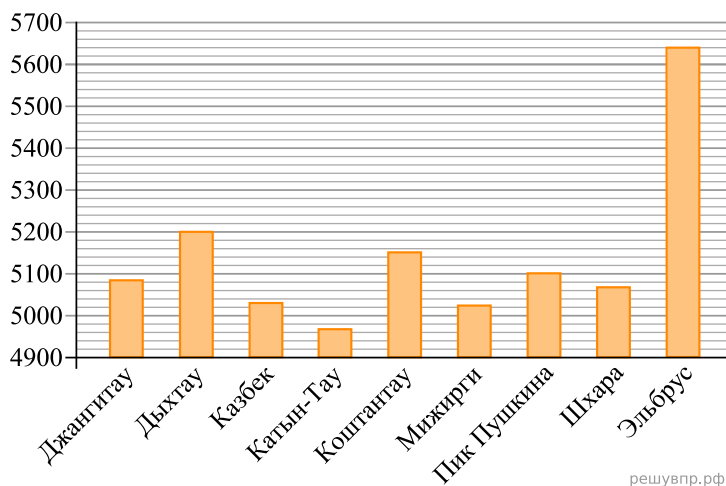
На диаграмме показано, сколько плюшек съел Карлсон в каждый день недели.



**27.** Сколько всего плюшек съел Карлсон за четыре первых дня недели?

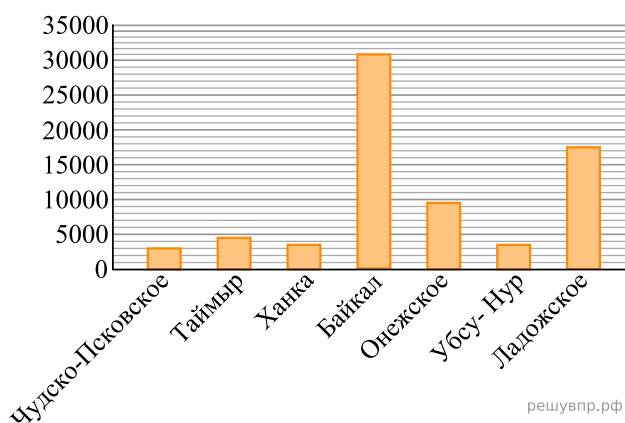


На диаграмме показаны высоты девяти самых высоких гор России. По вертикали указана высота в метрах над уровнем моря, по горизонтали — названия гор. Пользуясь этими данными, ответьте на вопросы.



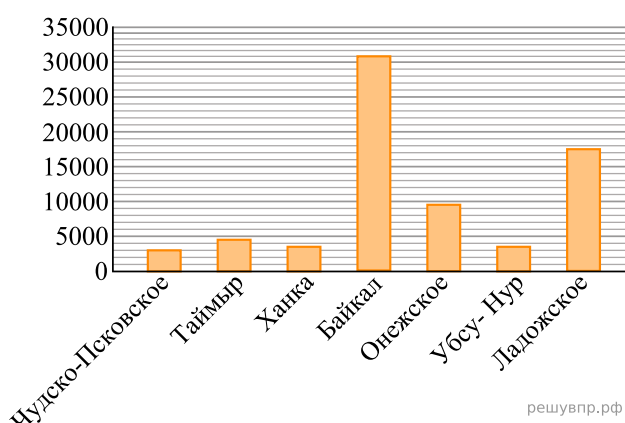
28. Какая гора занимает шестое место по высоте?

На диаграмме показаны площади семи крупнейших озёр России в квадратных километрах. Пользуясь этими данными, ответьте на вопросы.



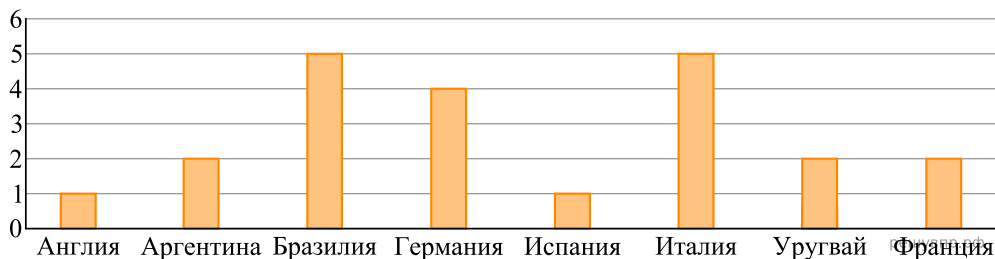
29. Какое озеро занимает второе место по площади?

На диаграмме показаны площади семи крупнейших озёр России в квадратных километрах. Пользуясь этими данными, ответьте на вопросы.



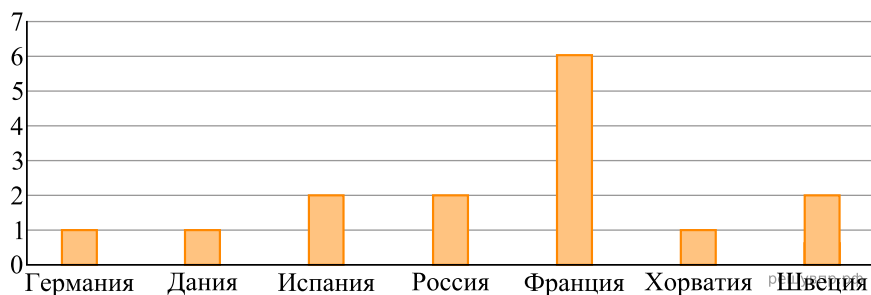
30. Какое озеро занимает третье место по площади?

Чемпионаты мира по футболу проводятся с 1930 года. На диаграмме показано, сколько раз какая национальная сборная становилась чемпионом мира по футболу за период с 1930-го по 2019 год. Пользуясь этими данными, ответьте на вопросы.



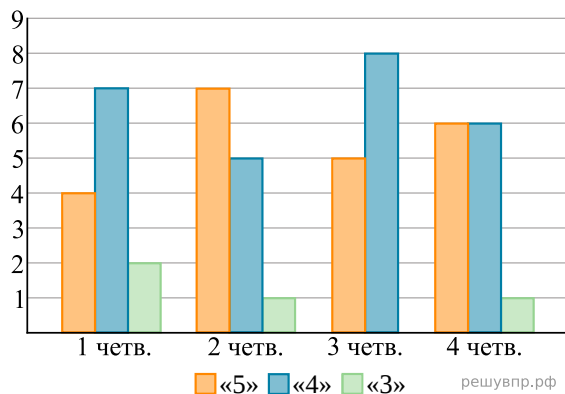
**31.** Сколько из представленных на диаграмме национальных сборных становились чемпионами больше трёх раз?

На диаграмме показано, сколько раз какая национальная сборная команда становилась чемпионом мира по гандболу. Пользуясь этими данными, ответьте на вопросы.



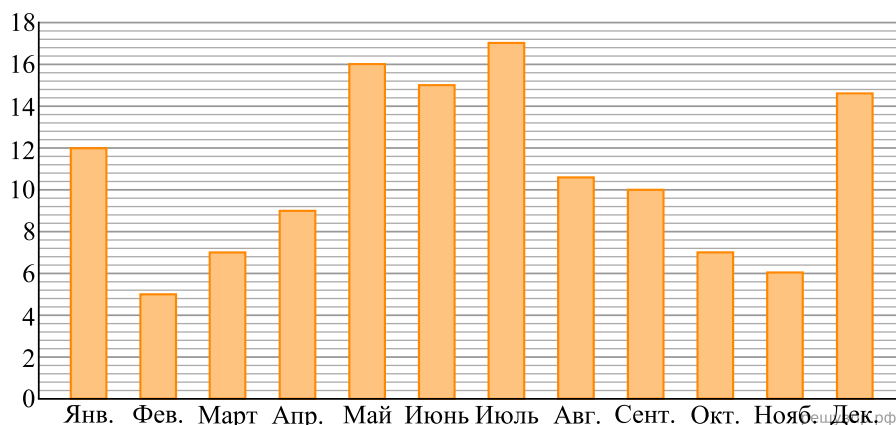
**32.** Сколько национальных сборных гандбольных команд из перечисленных становились чемпионами мира меньше трёх раз?

В 5-м классе каждый предмет изучается целый год. В конце 5-го класса Дима подсчитал, сколько и каких четвертных отметок у него было по всем предметам в этом учебном году. На диаграмме показано количество отметок в каждой из четырёх четвертей. Пользуясь этими данными, ответьте на вопросы.



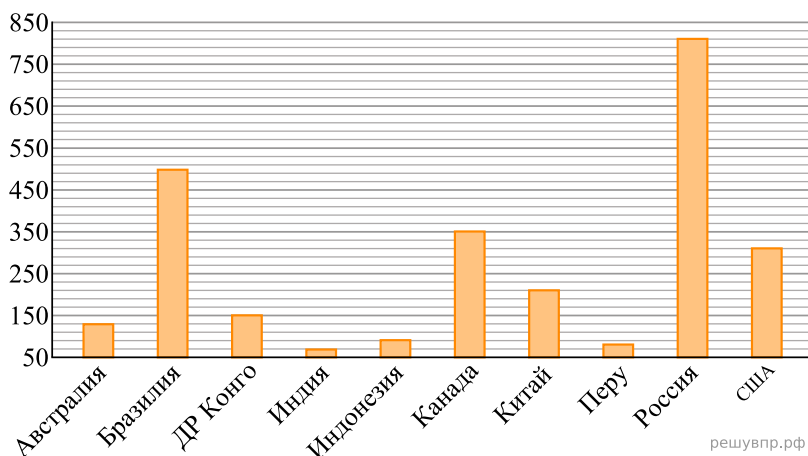
**33.** На сколько больше во второй четверти Дима получил пятёрок, чем троек?

На диаграмме показано, сколько концертов дали бременские музыканты в течение года. По вертикали указано количество концертов, по горизонтали — месяцы. Пользуясь этими данными, ответьте на вопросы.



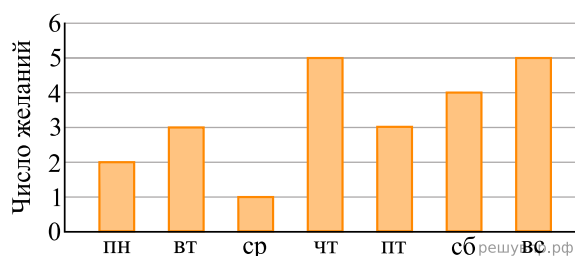
**34.** Сколько всего концертов дали бременские музыканты летом?

На диаграмме показана площадь лесных территорий (млн га) десяти стран мира в 2015 году. Пользуясь этими данными, ответьте на вопросы.



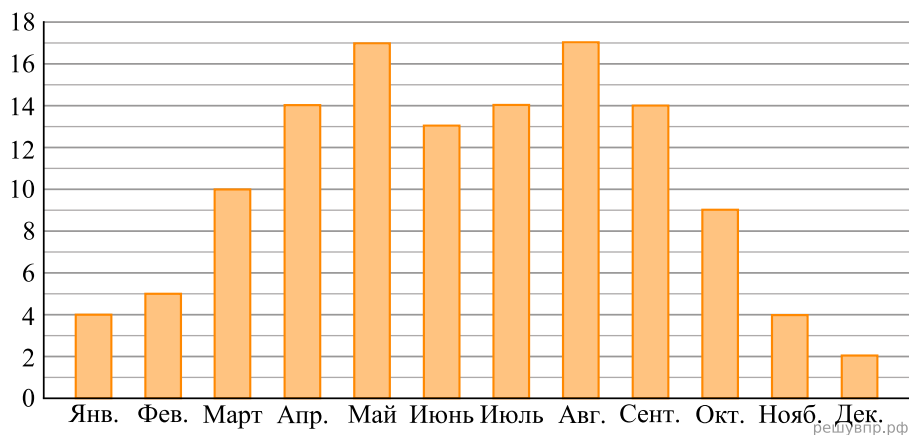
**35.** Россия занимала первое место по площади лесных территорий. Какая страна в 2015 году занимала шестое место в мире по площади лесных территорий?

На диаграмме показано, сколько желаний исполнил старик Хоттабыч в каждый день недели. Пользуясь этими данными, ответьте на вопросы.



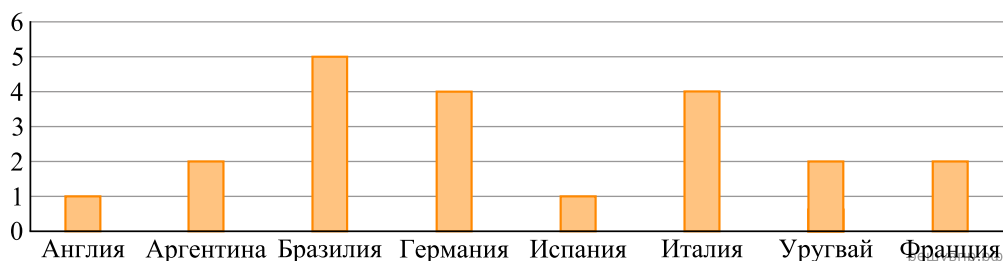
**36.** Сколько всего желаний исполнил старик Хоттабыч за три первых дня недели?

На диаграмме показано, сколько ясных дней было в Москве в каждом месяце 2018 года. По вертикали указано количество ясных дней, по горизонтали — месяцы. Пользуясь этими данными, ответьте на вопросы.



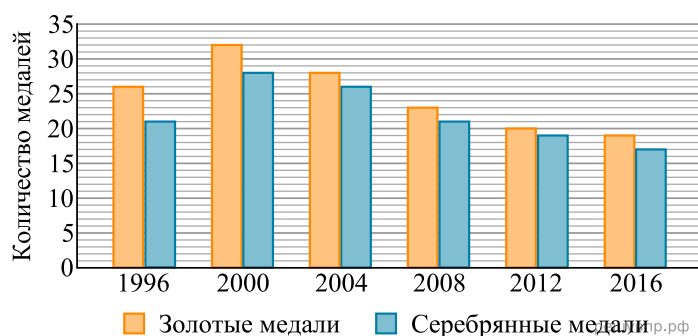
**37.** Сколько всего ясных дней было осенью 2018 года?

Чемпионаты мира по футболу проводятся с 1930 года. На диаграмме показано, сколько раз какая национальная сборная становилась чемпионом мира по футболу за период с 1930-го по 2019 год. Пользуясь этими данными, ответьте на вопросы.



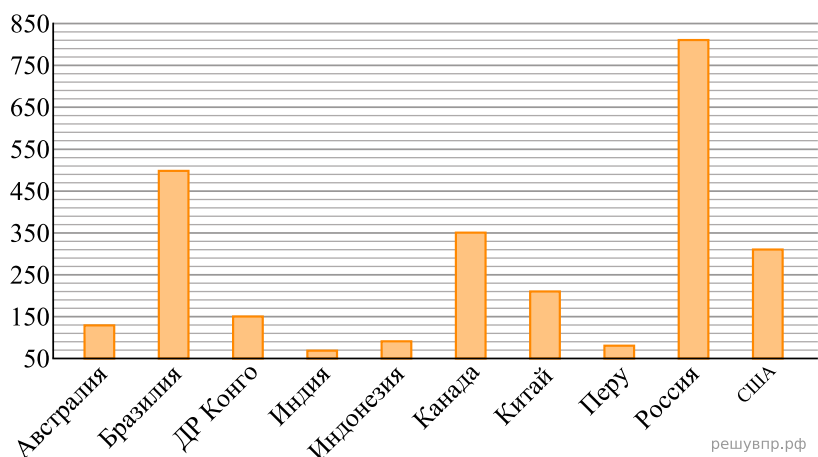
**38.** На сколько побед больше одержала сборная Италии, чем сборная Англии, в чемпионатах мира?

На диаграмме показано, сколько золотых и серебряных медалей завоевали российские спортсмены на Олимпийских играх в разные годы.



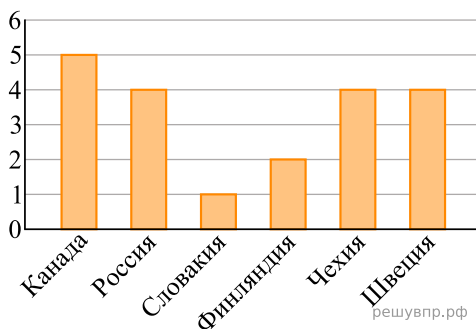
**39.** Сколько всего серебряных медалей завоевали российские спортсмены на Олимпийских играх 1996 и 2000 годов?

На диаграмме показана площадь лесных территорий (млн га) десяти стран мира в 2015 году. Пользуясь этими данными, ответьте на вопросы.



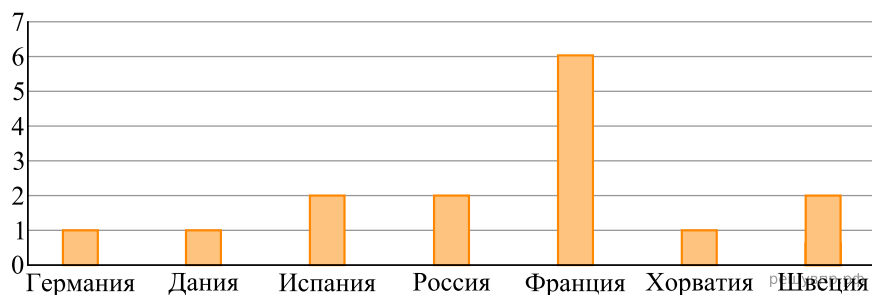
40. Россия занимала первое место по площади лесных территорий. Какая страна в 2015 году занимала пятое место в мире по площади лесных территорий?

На диаграмме показано, сколько раз какая национальная сборная команда становилась чемпионом мира по хоккею в период с 2000-го по 2019 год. Пользуясь этими данными, ответьте на вопросы.



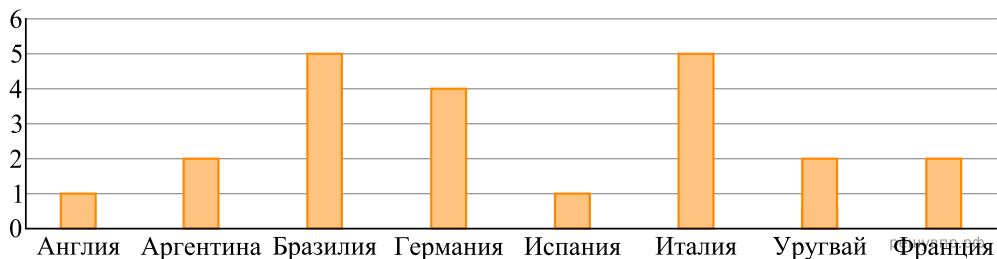
41. На сколько побед больше одержала сборная Швеции, чем сборная Словакии, в чемпионатах мира?

На диаграмме показано, сколько раз какая национальная сборная команда становилась чемпионом мира по гандболу. Пользуясь этими данными, ответьте на вопросы.



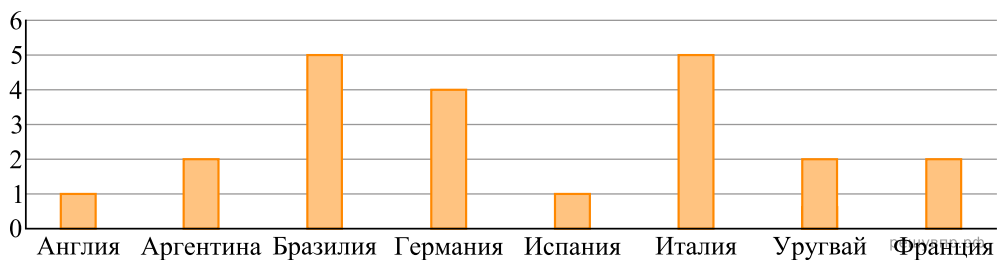
42. На сколько побед больше одержала сборная Франции, чем сборная Хорватии, в чемпионатах мира?

Чемпионаты мира по футболу проводятся с 1930 года. На диаграмме показано, сколько раз какая национальная сборная становилась чемпионом мира по футболу за период с 1930-го по 2019 год. Пользуясь этими данными, ответьте на вопросы.



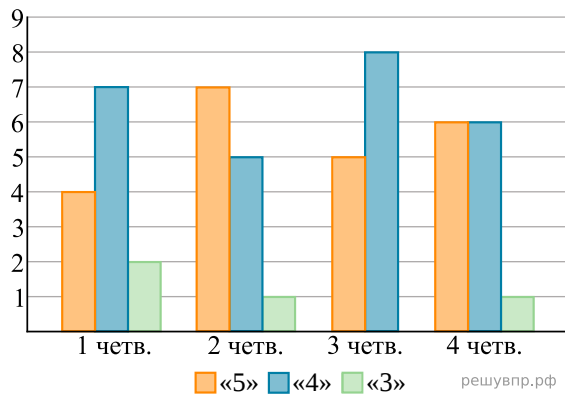
**43.** Сколько из представленных на диаграмме национальных сборных становились чемпионами 2 раза или меньше?

Чемпионаты мира по футболу проводятся с 1930 года. На диаграмме показано, сколько раз какая национальная сборная становилась чемпионом мира по футболу за период с 1930-го по 2019 год. Пользуясь этими данными, ответьте на вопросы.



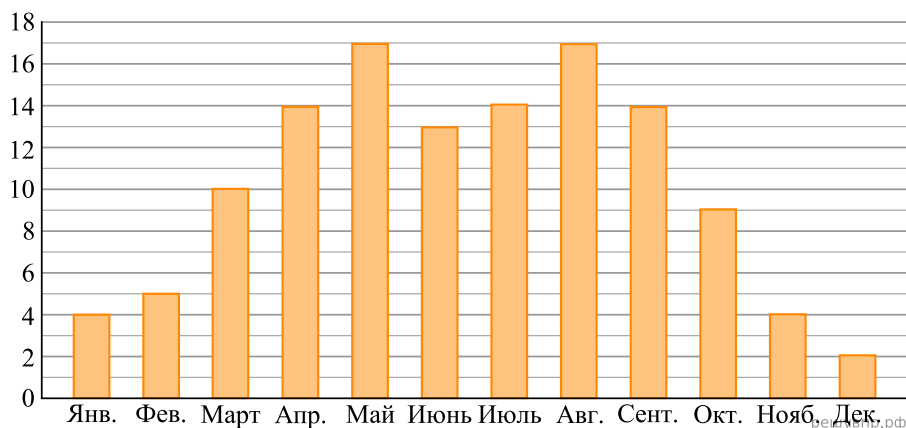
**44.** На сколько побед больше одержала сборная Бразилии, чем сборная Испании, в чемпионатах мира?

В 5-м классе каждый предмет изучается целый год. В конце 5-го класса Алёша подсчитал, сколько и каких четвертных отметок у него было по всем предметам в этом учебном году. На диаграмме показано количество отметок в каждой из четырёх четвертей. Пользуясь этими данными, ответьте на вопросы.



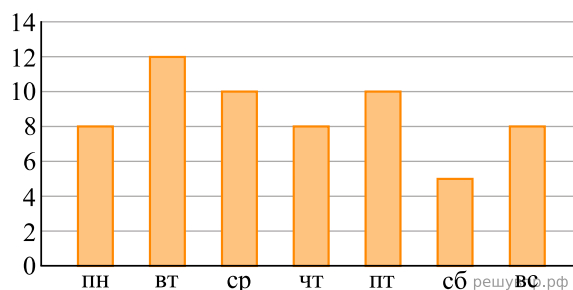
**45.** На сколько в третьей четверти Алёша получил больше четвёрок, чем пятёрок?

На диаграмме показано, сколько ясных дней было в Москве в каждом месяце 2018 года. По вертикали указано количество ясных дней, по горизонтали — месяцы. Пользуясь этими данными, ответьте на вопросы.



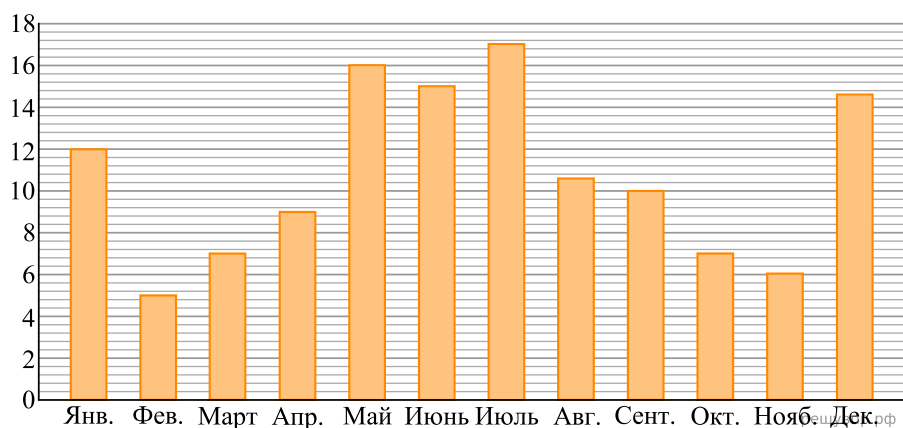
46. Сколько всего ясных дней было в последние три месяца 2018 года?

Таня в течение недели читала книгу «Маугли». На диаграмме показано, сколько страниц она читала каждый день. По вертикали указано количество прочитанных страниц, по горизонтали — дни недели. Пользуясь этими данными, ответьте на вопросы.



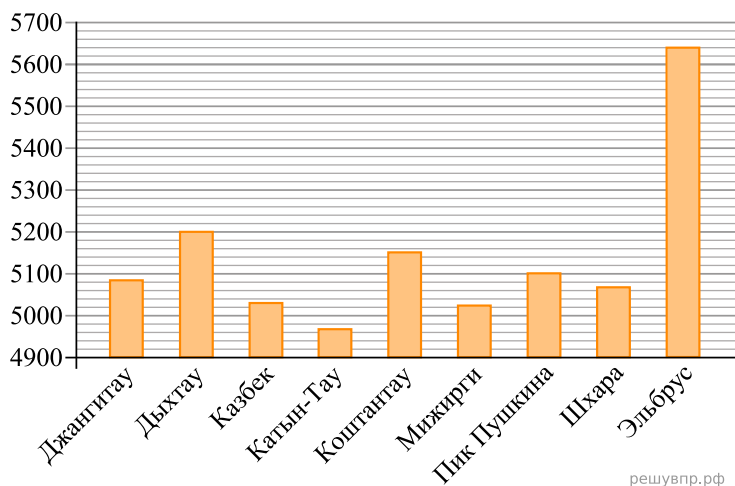
47. На сколько страниц меньше Таня прочитала в субботу, чем во вторник?

На диаграмме показано, сколько концертов дали бременские музыканты в течение года. По вертикали указано количество концертов, по горизонтали — месяцы. Пользуясь этими данными, ответьте на вопросы.

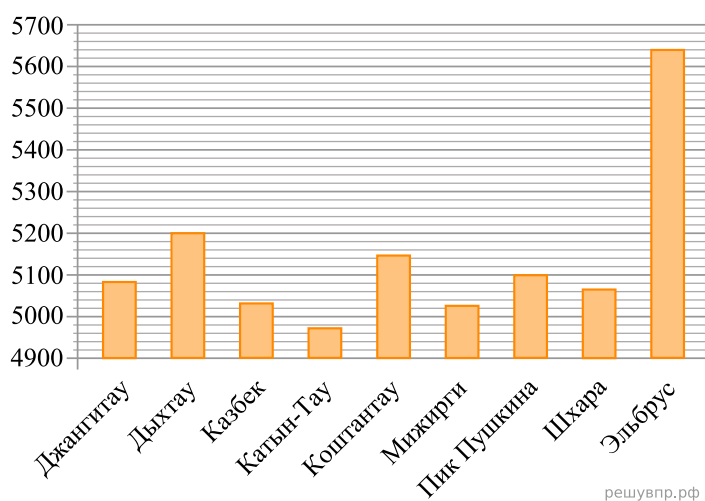


48. Сколько всего концертов дали бременские музыканты в мае, июне и июле?

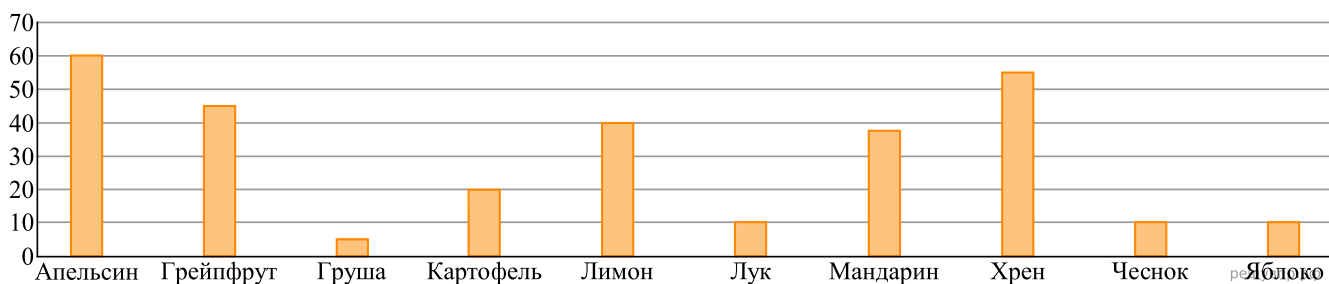
На диаграмме показаны высоты девяти самых высоких гор России. По вертикали указана высота в метрах над уровнем моря, по горизонтали — названия гор. Пользуясь этими данными, ответьте на вопросы.



49. Какая гора занимает четвёртое место по высоте?

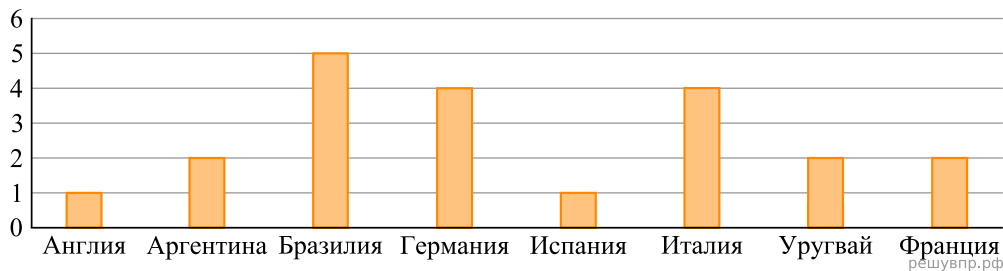


На диаграмме показано содержание витамина С в некоторых фруктах и овощах (миллиграммов на 100 граммов продукта). Пользуясь этими данными, ответьте на вопросы.



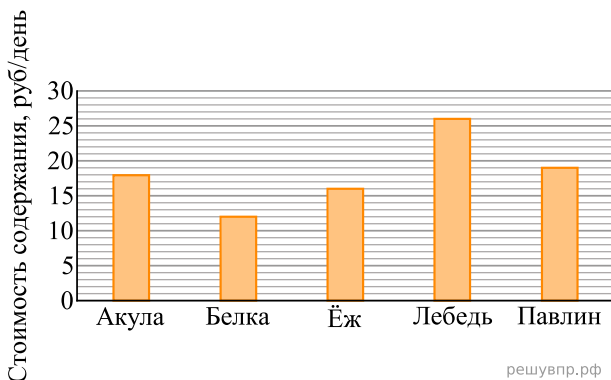
50. Перечислите овощи и фрукты, в которых витамина С больше, чем в картофеле, но меньше, чем в грейпфруте. В ответе укажите два слова — названия овощей и фруктов в именительных падежах без кавычек. Ответ запишите без пробелов, запятых или других дополнительных символов.

Чемпионаты мира по футболу проводятся с 1930 года. На диаграмме показано, сколько раз какая национальная сборная становилась чемпионом мира по футболу за период с 1930-го по 2019 год. Пользуясь этими данными, ответьте на вопросы.



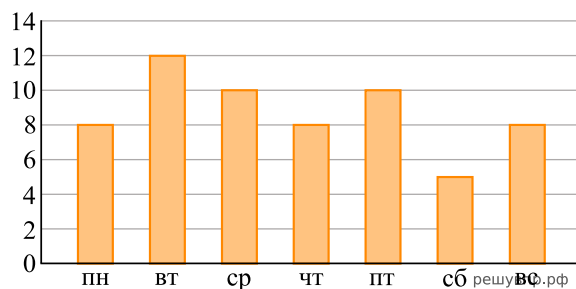
**51.** На сколько побед больше одержала сборная Германии, чем сборная Уругвая, в чемпионатах мира?

Директор зоопарка рассказал, сколько рублей в день в среднем тратится на питание (содержание) различных животных в зоопарке.



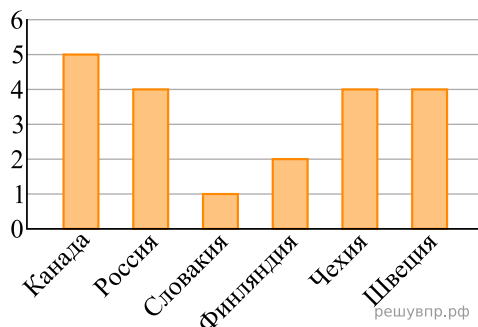
**52.** Сколько рублей в среднем тратится на питание одного лебедя за две недели?

Таня в течение недели читала книгу «Маугли». На диаграмме показано, сколько страниц она читала каждый день. По вертикали указано количество прочитанных страниц, по горизонтали — дни недели. Пользуясь этими данными, ответьте на вопросы.



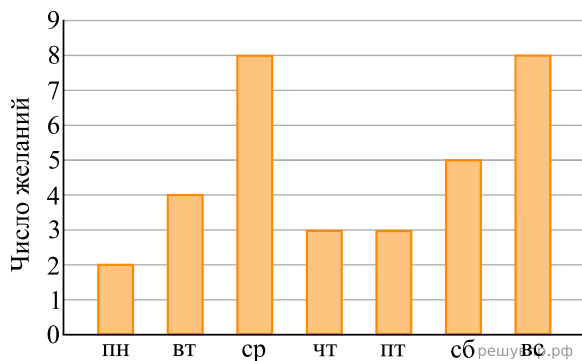
**53.** На сколько страниц меньше Таня прочитала в субботу, чем во вторник?

На диаграмме показано, сколько раз какая национальная сборная команда становилась чемпионом мира по хоккею в период с 2000-го по 2019 год. Пользуясь этими данными, ответьте на вопросы.



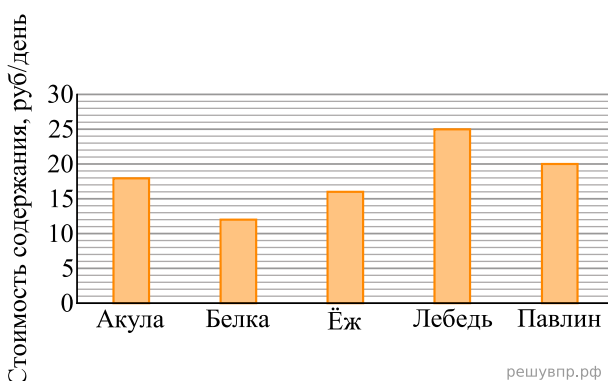
**54.** На сколько побед больше одержала сборная Канады, чем сборная Швеции, в чемпионатах мира?

На диаграмме показано, сколько желаний исполнял старик Хоттабыч в каждый день недели. Пользуясь этими данными, ответьте на вопросы.



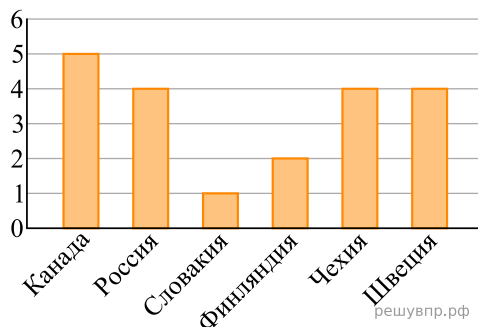
55. Сколько всего желаний исполнил старик Хоттабыч за четыре последних дня недели?

Директор зоопарка рассказал, сколько рублей в день в среднем тратится на питание (содержание) различных животных в зоопарке.



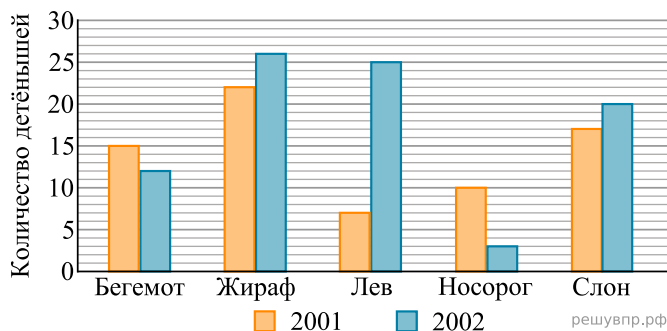
56. Сколько рублей в среднем тратится на питание одной акулы за неделю?

На диаграмме показано, сколько раз какая национальная сборная команда становилась чемпионом мира по хоккею в период с 2000-го по 2019 год. Пользуясь этими данными, ответьте на вопросы.



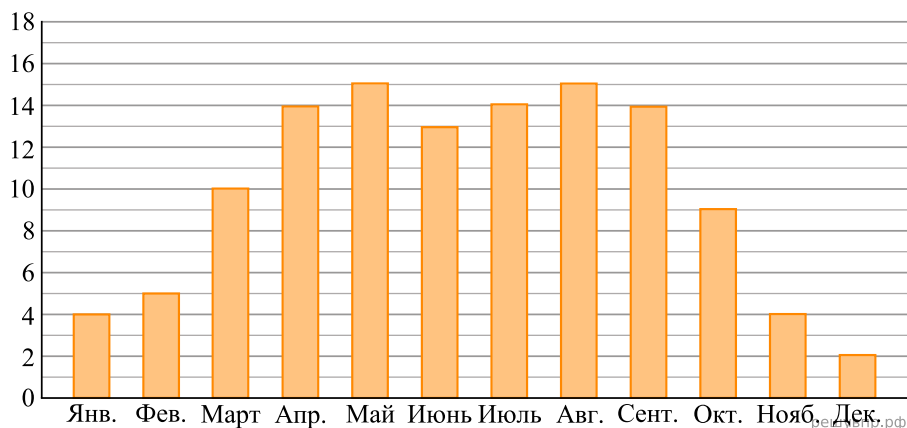
57. Сколько из представленных на диаграмме национальных сборных становились чемпионами мира меньше трёх раз?

На диаграмме показано, сколько детёнышей родилось у некоторых зверей в зоопарках мира в 2001 и 2002 годах.



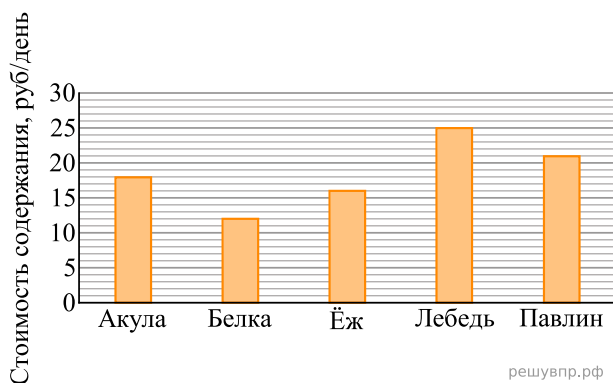
58. Сколько всего детёнышей жирафа родилось за два года?

На диаграмме показано, сколько ясных дней было в Москве в каждом месяце 2018 года. По вертикали указано количество ясных дней, по горизонтали — месяцы. Пользуясь этими данными, ответьте на вопросы.



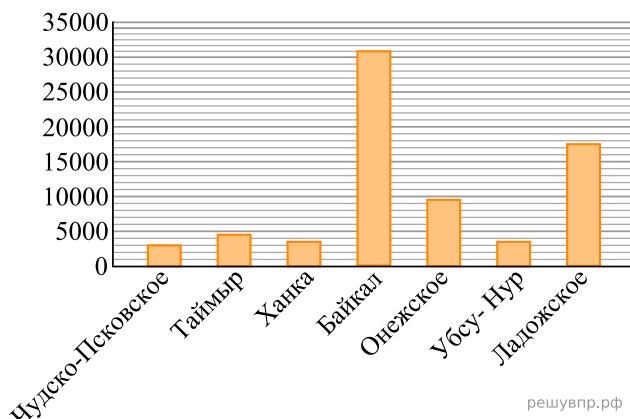
**59.** На сколько ясных дней в сентябре было больше, чем в ноябре 2018 года?

Директор зоопарка рассказал, сколько рублей в день в среднем тратится на питание (содержание) различных животных в зоопарке.



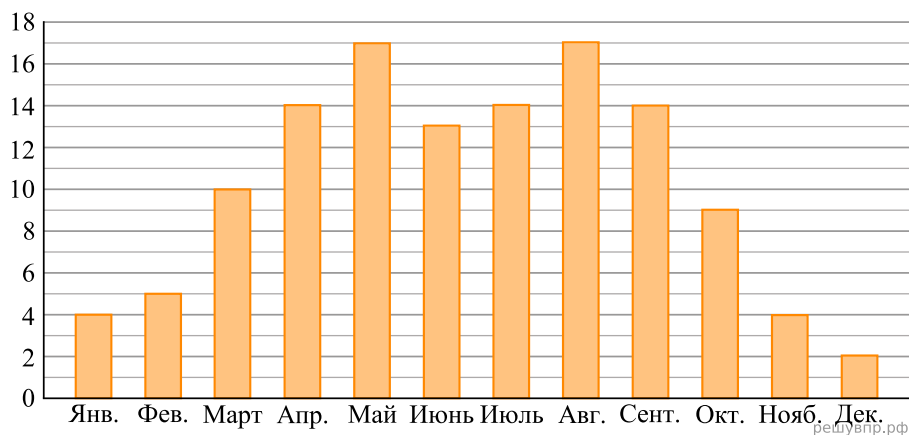
**60.** Сколько рублей в среднем тратится на питание одного павлина за две недели?

На диаграмме показаны площади семи крупнейших озёр России в квадратных километрах. Пользуясь этими данными, ответьте на вопросы.



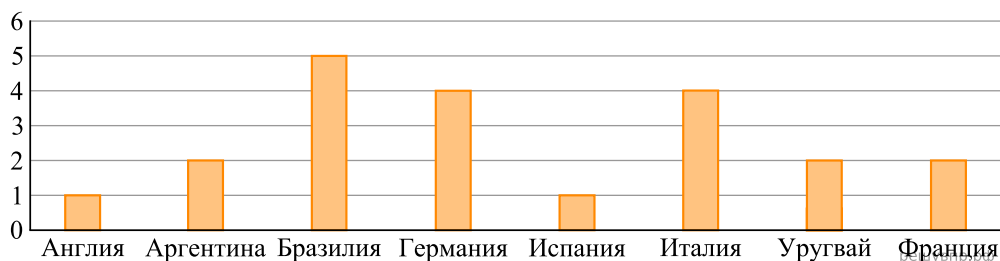
**61.** Какое озеро занимает третье место по площади?

На диаграмме показано, сколько ясных дней было в Москве в каждом месяце 2018 года. По вертикали указано количество ясных дней, по горизонтали — месяцы. Пользуясь этими данными, ответьте на вопросы.



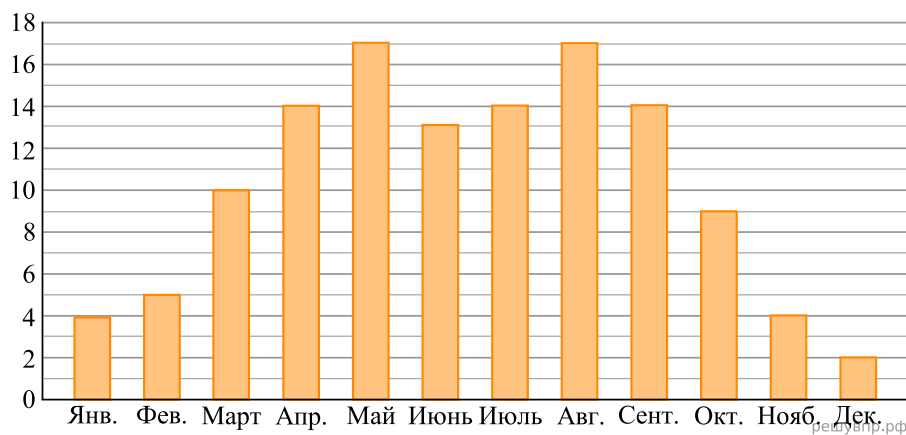
**62.** Сколько всего ясных дней было в первые три месяца 2018 года?

Чемпионаты мира по футболу проводятся с 1930 год. На диаграмме показано, сколько раз какая национальная сборная становилась чемпионом мира по футболу за период с 1930-го по 2019 год. Пользуясь этими данными, ответьте на вопросы.



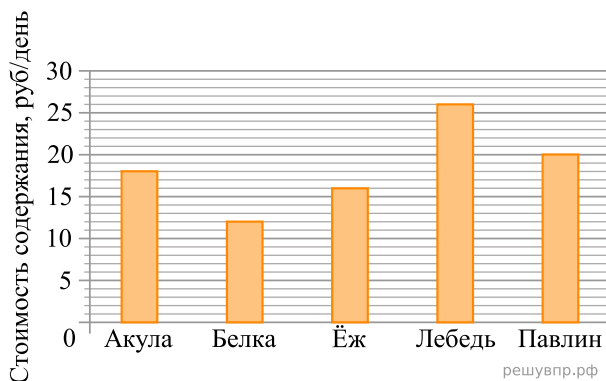
**63.** Сколько из представленных на диаграмме национальных сборных становились чемпионами 4 раза или меньше?

На диаграмме показано, сколько ясных дней было в Москве в каждом месяце 2018 года. По вертикали указано количество ясных дней, по горизонтали — месяцы. Пользуясь этими данными, ответьте на вопросы.



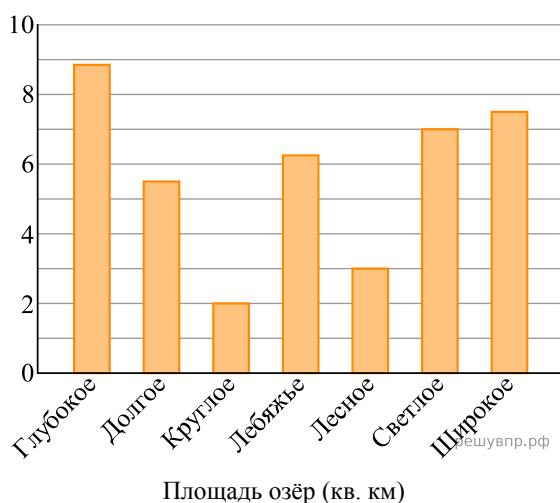
**64.** Сколько всего ясных дней было в апреле, мае и июне 2018 года?

Директор зоопарка рассказал, сколько рублей в день в среднем тратится на питание (содержание) различных животных в зоопарке.



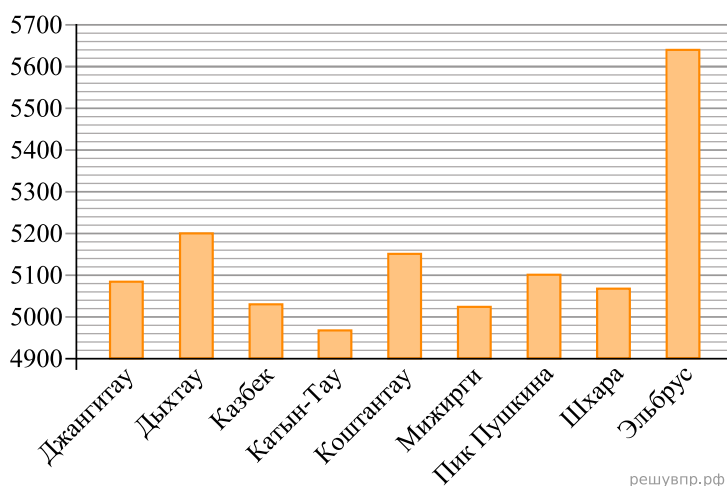
65. Сколько рублей в среднем тратится на питание одного ежа за две недели?

На диаграмме представлены данные о площади поверхности нескольких озёр. Первое место по площади занимает озеро Глубокое. Ответьте на вопросы.



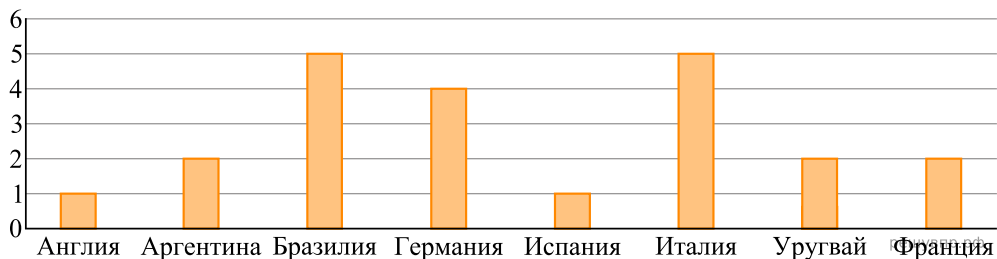
66. На сколько квадратных километров площадь озера Светлого больше площади озера Лесного?

На диаграмме показаны высоты девяти самых высоких гор России. По вертикали указана высота в метрах над уровнем моря, по горизонтали — названия гор. Пользуясь этими данными, ответьте на вопросы.



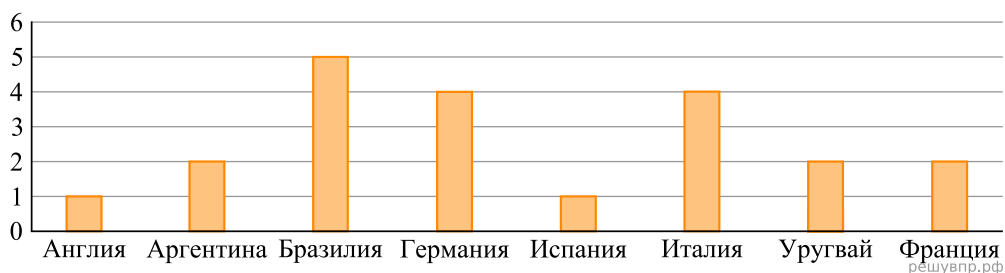
67. Какая гора занимает пятое место по высоте?

Чемпионаты мира по футболу проводятся с 1930 года. На диаграмме показано, сколько раз какая национальная сборная становилась чемпионом мира по футболу за период с 1930-го по 2019 год. Пользуясь этими данными, ответьте на вопросы.



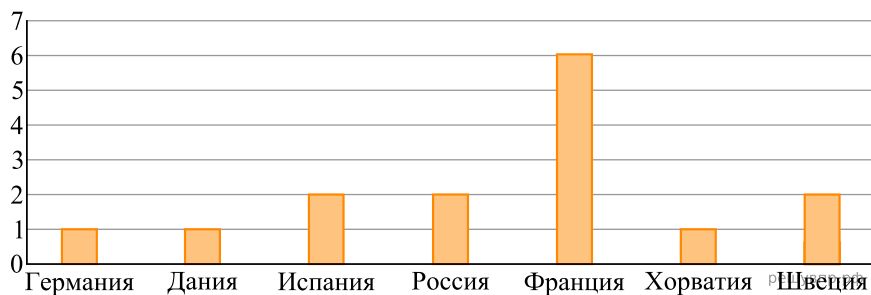
**68.** Сколько из представленных на диаграмме национальных сборных становились чемпионами ровно 2 раза?

Чемпионаты мира по футболу проводятся с 1930 года. На диаграмме показано, сколько раз какая национальная сборная становилась чемпионом мира по футболу за период с 1930-го по 2019 год. Пользуясь этими данными, ответьте на вопросы.



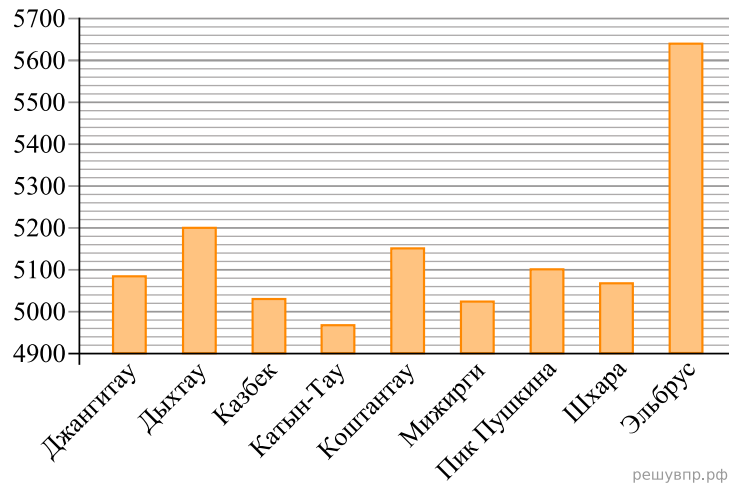
**69.** Сколько из представленных на диаграмме национальных сборных становились чемпионами 2 раза или больше?

На диаграмме показано, сколько раз какая национальная сборная команда становилась чемпионом мира по гандболу. Пользуясь этими данными, ответьте на вопросы.



**70.** Сколько национальных сборных гандбольных команд из перечисленных становились чемпионами мира больше одного раза?

На диаграмме показаны высоты девяти самых высоких гор России. По вертикали указана высота в метрах над уровнем моря, по горизонтали — названия гор. Пользуясь этими данными, ответьте на вопросы.



71. Какая гора занимает третье место по высоте?